



العام الجامعي ٢٠١٦/٢٠١٥ الفصل الدراسي الاول

لجنة الممتحنين: ١- أ.د. اوليفيا صالح ٢- أ.د. أحمد أبو اليزيد ٣- د. ياسمين صلاح

تعليمات الإجابة:

أجب على جميع الأسئلة التالية:

السؤال الأول: (٢٥ درجة)

- ١- العلاقة بين الوسط الحسابي والوسيط والمنوال في التواء موجب. بالرسم
- ٢- اشكال الانتشار التي تبين وجود ارتباط خطي وارتباط غير خطي. بالرسم
- ٣- معامل الارتباط بالرسم
- ٤- المنحنى الأسّي بالرسم

$$٥- اثبت أن \frac{م.ح. (س - م.ح.ه) ك١}{م.ح.ك} = \frac{م.ح.س ك١}{م.ح.ك} \left( \frac{م.ح.س ك١}{م.ح.ك} \right)^2$$

السؤال الثاني: (٨٠ درجة)

الجدول التالي يبين العلاقة بين الكمية المعروضة بالكيلو جرام والسعر بالجنيه

السعر	١	٢	٣	٤	٥	٦	٧	٨
الكمية المعروضة	٥	١٢	١٦	٢٣	٣٣	٣٨	٤٠	٤٢

المطلوب ايجاد: (١) معامل الارتباط بين الكمية المعروضة والسعر.

(٢) خط انحدار الكمية على السعر.

(٣) الكمية المعروضة عند سعر ١٥ جنيهاً.

السؤال الثالث: (٢٥ درجة)

في أحد الأومبياد الدولية قطعت المسافات التالية في الساعة

فئة المسافة	٥	١٠	١٥	٢٥	٣٠	٤٠	٤٥
عدد المتسابقين	٦	١٠	١٥	١٨	١٣	٨	٨

أوجد متوسط السرعة المسجلة.

السؤال الرابع: (٥٠ درجة)

احسب دلالة الفروق بين مجموعتين من الذكور والاناث في إجابة كل منهما على الموافقة على تنظيم الأسرة من الجدول


التالي: وذلك عند مستوى معنوية ٠.٠١

النوع	الرأي	موافق	محايد	أرفض	المجموع
ذكور		٤٤	١٢	٦٤	١٢٠
اناث		٥٨	٤٠	٢٢	١٢٠
المجموع		١٠٢	٥٢	٨٦	٢٤٠

(نهاية أسئلة الامتحان)

مع أطيب التمنيات بالنجاح والتوفيق

أ.د. أوليفيا صالح  
أ.د. أحمد أبو اليزيد



العام الجامعي ٢٠٢٦/٢٠١٥ الفصل الدراسي الأول

لجنة الممتحنين : ١\_ أ.د. نشوى التطاوى. ٢\_ أ.د. محمد الماحي. ٣\_ د. سامح شهاب.

تعليمات الإجابة : ١\_ أجب على الأسئلة الآتية ، مع مراعاة الإلتزام بالمحدد لكل سؤال. ٢\_ عدد الصفحات: (١).

السؤال الأول : صمم الميزانية الإنتاجية المستخدمة في إنتاج ثلاث نواتج في ظل القيود والإحتياجات الإنتاجية التالية:

الناتج / الفيود	٩ فدان	٩٠٠٠ جنيه	٥٠ وحدة	٣٩ وحدة	٣٠ وحدة
الإحتياجات الإنتاجية					
الأول	١	٩٠٠	٥	٣	٤
الثاني	١	٥٠٠	٢	٧	صفر
الثالث	١	٢٥٠	٥	صفر	صفر

علماً بأن صافي الربح المتوقع من الفدان: ١٨٠٠ ، ٥٠٠ ، ٢٠٠ جنيه للنواتج الثلاثة على الترتيب.

السؤال الثاني \_ تناول باختصار:

(٦٠ درجة)

أ\_ تطور الملكية في مصر ، ثم فرق بين الملكية والحيازة ، ثم وضع الملكية في النظم الاقتصادية.

ب\_ أغراض ومراحل وطرق تقدير ثمن الأراضي.

ت\_ تعريف: السند والمورد والتضخم والكفاءة.

السؤال الثالث:

(٦٠ درجة)

١\_ عرف ما يلي:

الإدارة الاستراتيجية<sup>(١)</sup> \_ إدارة الأعمال الزراعية<sup>(٢)</sup> \_ الاقتصاد الإداري<sup>(٣)</sup> \_ المزرعة<sup>(٤)</sup> \_ نموذج آدمز<sup>(٥)</sup> \_ مدير المزرعة<sup>(٦)</sup>

٢\_ وضع الفرق بين:

أ\_ وحدة العمل الإنساني ، وحدة العمل الحيواني. ب\_ رأس المال المزرعي الثابت ، رأس المال المزرعي المتداول.

ت\_ الرقابة ، المتابعة.

٣\_ اذكر فقط ما يلي:

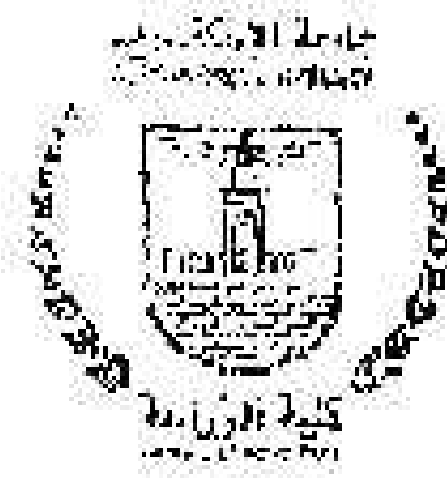
(١٥ درجة بمعدل ٥ درجات لكل نقطة)

أ\_ عناصر الإدارة والإدارة الاستراتيجية. ب\_ الأدوات والأساليب التحليلية المساعدة في عملية الرقابة.

ت\_ مواصفات الأهداف الجيدة.

(نهاية أسئلة الامتحان)

مع أطيب التمنيات بالنجاح والتوفيق



العام الجامعي ٢٠١٤/٢٠١٥ الفصل الدراسي الأول

أجته المتقدمين: ١- أ.د. أوليفيا صالح ٢- أ.د. رشفة القيسية ٣- أ.د. أحمد أبو العريد

تعليمات الإجابة:


أجب على جميع الأسئلة التالية:

السؤال الأول: (٢٨ درجة)

(أ) بين بالرسم

(ب) امل الارتباط، العلاقة بين الوسط الحسابي والوسيط والموالي في منحني ملتو (أ) القواء موجب (ب) القواء سالب أشكال المنحنيات التكرارية

٩٣



موجب من ك

موجب (من - من) ك

(ب) أثبت أن -

موجب ك

موجب ك

(ج) في دراسة العلاقة بين سعر الكتاب وعدد صفحاته تم جمع البيانات التالية لعينة من الكتب بين ما إذا كان

تلك ارتباط بين سعر الكتاب وعدد صفحاته باستخدام (أ) ارتباط بيرسون (ب) ارتباط سبيرمان

سعر الكتاب	١٢	١٠	٧	٨	٧	١٠	١٢
عدد الصفحات	٢٠	٣٠	٤٠	٤٠	٤٤	٣٠	٢٠

السؤال الثاني: (٨٢ درجة)

١- قارن بين كل من توزيع  $F$ ,  $t$ ,  $X^2$  من حيث الخصائص ودرجات الحرية

٢- إذا كان لديك البيانات التالية:

$$N = 18 \quad \sum X = 162 \quad \sum Y = 720$$

$$\sum XY = 9100 \quad \sum X^2 = 1860 \quad \sum Y^2 = 48000$$

حيث  $X$  تمثل الاستهلاك،  $Y$  تمثل الدخل المتاح المطاوع.

(أ) أوجد معادلة الانحدار  $Reg_{Y/X}$  مع تفسير النتائج المتحصل عليها.

(ب) إذا علمت أن قيمة  $X$  تبلغ ٢٢ فكم تبلغ قيمة  $Y$  المتوقعة.

٣- اجري تجربة على عينة عشوائية مكونة من ٧ أبقار التعرف على أثر اختلاف طريقة الحلب على كمية إدرار اللبن الأسبوعي، وكانت النتائج كما يلي:

٧	٦	٥	٤	٣	٢	١	أبقار العينة
٢٤	٢٢	٢٢	٢٤	١٩	٢٠	٢١	طريقة الحلب
١٧	١٦	١٧	١٩	١٦	١٨	١٧	أبي
							بيري

المطلوب: اختبر كل اختلاف طريقة الحلب يؤثر على متوسط كمية إدرار اللبن عند مستوى معنوية ٠.٠٥ علماً بأن قيمة

$$t_{جدولية} = 2.19$$

(نهاية أسئلة الامتحان)

مع أطيب التمنيات بالنجاح والتوفيق





قسم الاقتصاد  
إدارة الأعمال الزراعية

مقرر اقتصاد ٢٦٤٩٨

موضوعات مناقشة في مجال الدكتور  
الأستاذة الدكتورة والأستاذة الزاوية

الفصل الدراسي الأول

السنة الجامعية ١٣/١٤٠٤م

الأستاذة الدكتورة

(الفرقة الرابعة)

لجنة المشتملين: أ.د. أحمد أبو اليزيد الرسول، أ.د. رفيق بسيم محمد، د. سامح محمد شهاب

"إذا لم تزد في الحياة شيئاً... كنت أنت زائداً عليها..."

أجب عن الأسئلة مما يأتي (درجة كل سؤال ٥)

١. تعدد تعريفات التنمية المستدامة؛ أذكر ٢ من أهم هذه التعريفات.
٢. أذكر أهم محضات النص و مؤشرات التنمية المستدامة.
٣. أذكر الأهداف الإغائية للألفية الثالثة - MDG.
٤. ما هي أهم المؤتمرات الدولية التي عقدت لمناقشة العلاقة بين البيئة والتنمية؟ ثم راجع المقصود بتقرير الأثر البيئي NIA.
٥. تعدد نماذج التنمية المستدامة؛ أذكر ٣ من هذه النماذج.
٦. فرق بين مبادئ حكومة أستراليا الغربية و مبادئ Gibbs للاستدامة.
٧. أذكر أهم أسباب عدم كفاية التشريعات والقوانين البيئية للحد من التلوث البيئي.
٨. ما المقصود بالاقتصاد القائم على المعرفة؟ وما هي أهم ركائز و متطلبات هذا الاقتصاد؟
٩. تعدد نظريات الاستثمار؛ فرق بين نظرية الكرج مالي، نظرية النمو والدينامية نظرية Tobin.
١٠. ما هي أهم العناصر الفرعية المكونة لعناصر مؤشر الاقتصاد القائم على المعرفة؟
١١. ما هي أهم خصائص الاقتصاد القائم على المعرفة مقارنةً بالاقتصاد التقليدي؟

أطيب الأمنيات



اسم وكود المقرر: ٢٠٤٠٣  
الاقتصاد الاقتصادي



جامعة الإسكندرية

كلية الزراعة

قسم الاقتصاد وإدارة الأعمال الزراعية

الفرقة: رابعة

مدة الامتحان: ساعتان  
تاريخ وميعاد الامتحان: ٢٠١٣/١/٢٠ من ٩-١١  
الدرجة الكلية للاختبار: ٢١٠ درجة

العام الجامعي ٢٠١٣/٢٠١٤ الفصل الدراسي الأول

لجنة الممتحنين: ١- أ.د. أوليفيا صالح ٢- أ.م. رفعت نقوشة ٣- أ.د. أحمد أبو العزيم

تعليمات الإجابة:

أجب على جميع الأسئلة التالية:

السؤال الأول: (٧٠ درجة)

١- ما المقصود بالمصطلحات الآتية:

الزراعة المركزية - البيانات الثانوية - كسر العمود - الثباين - التكرار المعدل.

٢- بين بالرسم فقط:

أ- أشكال الانتشار التي تبين وجود ارتباط بين متغيرين

ب- معامل الارتباط ج- المنحني الأساسي

د- العلاقة بين الوسيط الحسابي والوسيط والمذلل في منحنى ملتو التواء موجب.

السؤال الثاني: (٧٠ درجة)

في دراسة للعلاقة بين سعر الكتاب وعدد صفحاته تم جمع البيانات التالية:

سعر الكتاب	١٢٠	١٠٠	٧٠	٨٠	٧٠	١٠٠	١٥٠	١٠٠
عدد الصفحات	٢٠٠	٢٠٠	٥٠٠	٤٠٠	٤٠٠	٢٠٠	٦٠٠	٦٠٠

المطلوب: هل هناك ارتباط بين سعر الكتاب وعدد صفحاته مستخدماً

(١) معامل ارتباط بيرسون

(٢) معامل ارتباط سبيرمان للترتيب.

السؤال الثالث: (٧٠ درجة)

الجدول التالي يبين دخل واستهلاك سبع أسر في أحد الأحياء بمدينة م.ا.


الدخل (س)	٣٨	٣٢	٤٢	٤٨	٤٠	٤٢	٥٠
الاستهلاك (ص)	٢٤	٢١	٢٧	٣٠	٢٧	٣٣	٣٦

المطلوب: ١- ايجاد خط انحدار الاستهلاك (ص) على الدخل (س)

٢- تفسير قيمة الاستهلاك عندما يكون الدخل ٦٠ جنيه.

(نهاية أسئلة الامتحان)

مع أطيب التمنيات بالنجاح والتفوق



مدة الامتحان: ساعتان

تاريخ وميعاد الامتحان: ٢٠١٤/١/٢١ من ١١-١  
الدرجة الكلية للامتحان: ١٢٠ درجة

العام الجامعي ٢٠١٣/٢٠١٤ الفصل الدراسي الأول

لجنة الممتحنين: ١- أ.د. السيد المشرف قنوي ٢- أ.د. الحسين الصيفي ٣- أ.د. عيون خير الله عيون

تعليمات الإجابة: أجب على جميع الأسئلة الإجابة:

السؤال الأول: (٦٠ درجة)

١- عرف مايلي: الأصول الثابتة، الأصول المتداولة، الخصوم، العملية المالية، معادلة الميزانية.

٢- في ٢٠١٣/١٠/١ بدأ محمود إبراهيم مشروع زراعي بالأصول والخصوم التالية:

٢٠٠٠٠ جنيه أراضي ومباني، ٨٠٠٠٠ آلات ومكينات، ١٠٠٠٠ أسمدة، ٣٠٠٠٠ نقدية بالصندوق،

٢٠٠٠٠ فرض من بنك القرية.

وفي الأيام التالية من شهر أكتوبر ٢٠١٣ قام المشروع بالعمليات التالية:

• في ٢٠١٣/١٠/٢ تم شراء بنور زراعي بمبلغ ٧٠٠٠٠ جنيه نقداً.

• في ٢٠١٣/١٠/٣ تم بيع محصول قيمتها ٣٠٠٠٠ جنيه نقداً.

• في ٢٠١٣/١٠/٨ سحب محمود إبراهيم ٧٠٠٠ جنيه من الصندوق كمسروقاته الشخصية.

• في ٢٠١٣/١٠/١٤ تم شراء ماشية قيمتها ٢٠٠٠٠ جنيه من التاجر محمود حسين دفع من ثمنها ٢٠٠٠٠

جنيه والباقي على الحساب.

• في ٢٠١٣/١٠/٢٠ دفع عبور عمال قيمتها ٣٠٠٠ جنيه، وكاليف صيانة آلات قيمتها ١٠٠٠ جنيه.

المطلوب: تسجيل هذه العمليات في دفتر اليومية، والتحويل إلى دفتر الأستاذ، وإعداد ميزان المراجعة بالأرصدة.

السؤال الثاني: (٦٠ درجة)

فيما يلي ميزان المراجعة المستخرج من دفاتر شركة الزراعة في ٢٠١٢/١٢/٣١:

أرصدة دائنة بالجنيه:

٣٠٠٠ مسحوبات، ١٥٠٠٠٠ سياراته، ١٠٠٠٠٠ أراضي ومباني، ٢٥٠٠٠ بضاعة أول المدفوع في

٢٠١٢/١/١، ٨٠٠٠٠ مشتريات، ٢٠٠٠ مردودات مبيعات، ٣٠٠٠٠٠ مرتبات، ٨٠٠٠٠ خصم مسموح به، ٦٠٠٠

ديون معدومة، ٤٥٠٠٠٠ دينون، ١٥٠٠٠ أوراق قبض، ٢٠٠٠ فائدة قرض، ٧٢٠٠٠٠ نقدية بالصندوق.

أرصدة دائنة بالجنيه:

٢٠٠٠٠٠ رأس المال، ٢٥٠٠٠٠ مبيعات، ١٢٠٠٠٠ مردودات مشتريات، ١١٠٠٠٠ خصم مكتسب، ٣٥٠٠٠٠

دينون، ١٠٠٠٠٠٠ قرض، فإذا علمت أن بضاعة آخر المدفوع قدرته بمبلغ ٤٠٠٠٠ جنيه.

المطلوب: إعداد حساب المتاجرة، وحساب الأرباح والخسائر، والميزانية العمومية في ٢٠١٢/١٢/٣١.

نهاية أسئلة الامتحان

معلم

وزارة التعليم العالي والبحث العلمي

كلية التربية

قسم الدراسات والبحوث التربوية

الدراسة لدرجة البكالوريوس

اسم وكنية الطالب: محمد علي محمد

رقم الجلوس: ٣٤٥٥٥

مادة الامتحان: مناهج ووسائل تدريس



التاريخ: ١٤٤٣/١١/٢٠

الدرجة: ٢٦٠

الوقت المخصص: ١٣٠ دقيقة

مادة الامتحان: مناهج ووسائل تدريس

الدرجة: ٢٦٠

الوقت المخصص: ١٣٠ دقيقة

١- اشرح مفهوم المناهج

٢- اشرح مفهوم الوسائل التعليمية

٣- اشرح مفهوم الوسائل التعليمية الحديثة

٤- اشرح مفهوم الوسائل التعليمية التقليدية

٥- اشرح مفهوم الوسائل التعليمية المتكاملة

٦- اشرح مفهوم الوسائل التعليمية المتعددة الوسائط

٧- اشرح مفهوم الوسائل التعليمية التفاعلية

(الدرجة: ٦٠ درجة)

استخدم استراتيجيات التعلم النشط في تدريس الرياضيات مع تلميذات

الصف الخامس من خلال الأنشطة المختلفة (١٠ درجات)

الاجابة:  $٧٠ = ٣٠ + ٤٠$

$٦٠ = ٣٠ + ٣٠$


$٧٠ = ٣٠ + ٤٠$

$٦٠ = ٣٠ + ٣٠$

(توضيح: أسئلة الاختبار)

مع تمنياتنا بالنجاح والتوفيق





العام الجامعي ٢٠١٢/٢٠١١ الفصل الدراسي الأول

اسم المقرر: إدارة المبيعات من إعداد الدكتور/أ.م.د. أوليفيا صانوح ، أ.م.د. محمد زخول

نوع الامتحان: إجابة

أجب على جميع الأسئلة الآتية

السؤال الأول: (٦٠ درجة)

يتردد في وسائل الإعلام حالياً أن المخزون الاستراتيجي من القمح والدقيق في مصر في خطر.. فمن خلال دراستك لتخزين الحبوب هل يمكنك إيضاح مكن هذا الخطر في ظل الأوضاع الاقتصادية الراهنة.. مستعيناً بالعناوين الآتية: (أ) مفهوم المخزون الاستراتيجي . (ب) السمات التخزينية التجارية والمستقبالية . (ج) الفوائد من الحبوب وعلى رأسها القمح. (د) إذا توفرت الاعتمادات المالية اللازمة لاستيراد كميات كبيرة من القمح هل ذلك ممكناً ويحل المشكلة.

السؤال الثاني: (٦٠ درجة)

لمنع تكس البضائع داخل الميناء ، لابد من معرفة طاقة التخزين داخل الميناء ومعرفة طاقة النقل داخل الميناء أيضاً. أذكر فقط القوائين التي يجب الاستعانة بها في حساب كل من طاقة التخزين وطاقة النقل المشار إليهما وذلك لتجنب مشكلة التكدس في الميناء.

السؤال الثالث: (٦٠ درجة)

بعد تخرجك عملت في الميناء بإدارة النقل وطلب منك وضع خطة تشغيل عدد من القاطرات (أو السيارات) المتاحة للعمل في الميناء وهي أربعة أنواع A, B, C, D تستخدم على خطين (أو مسارين) هما X1, X2 وطاقة الخط الأول (X1) هي 700 طن وطاقة الخط الثاني (X2) هي 960 طن ولديك المعلومات والبيانات الآتية:

$$O.F = 700 X1 + 960 X2$$

$$4 X1 + 4 X2 \leq 40 \quad \dots \quad A$$

$$2 X1 + 4 X2 \leq 28 \quad \dots \quad B$$


$$0 X1 + 8 X2 \leq 32 \quad \dots \quad C$$

$$8 X1 + 0 X2 \leq 24 \quad \dots \quad D$$

وضح كيف يمكنك وضع خطة تشغيل مثالي تعظم دالة الهدف، مع كتابة تعليق إرشادي للعاملين في إدارة النقل بالميناء.

نهاية أسئلة الامتحان

مع أطيب التمنيات بالنجاح والتوفيق،،،



العام الجامعي ٢٠١٢/٢٠١١ - اقتصاد الدراسات الأول

الأسماء: أ.د. محمد عبد النبي عبيد، أ.د. سعد زخلول، د. سامح شهاب

تعليمات الإجابة:

أجب على جميع الأسئلة الآتية

السؤال الأول: (٧٠ درجة)

- ١- ازداد حجم التجارة الدولية في العصر الحديث، ماهي الأسباب الرئيسية وراء ذلك.
- ٢- تكلم باختصار عن صور التكامل الاقتصادي.
- ٣- ماهي المبادئ الأساسية لاتفاقية الجات.

السؤال الثاني: (٧٠ درجة)

- ١- اكتب مذكرة مختصرة في قانون الاستيراد والتصدير المصري.
- ٢- تكلم باختصار عن المفاوضات المنهضة بتحرير تجارة السلع الزراعية في جولة أورو جواي وأهم العقبات التي تواجه تحرير تجارة السلع الزراعية.
- ٣- ماهي أهم آليات الحماية للمنتجات الزراعية ثم يدرج بالرسم البياني تكلفة الحماية على الآلة. اء القوم في حالة فرض تعريفه عبر كية على الصادات عن السلع الزراعية.

السؤال الثالث: (٧٠ درجة)

- قل بـقـرقة عن: الصندوق الأخضر - الصندوق الأزرق - استثمارات الحد الأدنى - الأطراف الرئيسية وأهمها  
المصالح في مفاوضات أورو جواي حول المنتجات الزراعية - مقياس الدعم الكلي.

نهاية أسئلة الامتحان

مع أطيب التمنيات بالنجاح والتوفيق،،،



العام الجامعي ٢٠١٢/٢٠١١ الفصل الدراسي الأول

لجنة الممتحنين: أ.د. تجري عبد المنعم مصطفى، أ.د. حسني حبيب فتولي، د. سامح حسن شهاب

تعليمات الإجابة:

الإجابة على ثلاثة أسئلة فقط

السؤال الأول: (٧٠ درجة)

- ١- أذكر خصائص عوامل الإنتاج الدول النامية مع توضيح إحداها.
- ٢- وضح مفهوم الفقر في الدول المتخلفة.

السؤال الثاني: (٧٠ درجة)

المصادر التي للدول النامية وسبب التنمية المجتمع، بين أهميتها وانعكاسات الداخلية والخارجية التي تواجهها الدول النامية عند التصدير.

السؤال الثالث: (٧٠ درجة)

تعرض الأزمة المالية العالمية سبتمبر ٢٠٠٨ مع بيان مظاهرها وأسبابها وتأثيرها على الاقتصاد العربي والمصري وأينما واجهتها؟

السؤال الرابع: (٧٠ درجة)

وضح مبادئ الزراعة المقراصدية متضمناً المعايير المناسبة لكل مبدأ مع بيان العوامل المؤثرة على استدامة الزراعة

نهاية أسئلة الامتحان

مع أتيب التفيرات بالنجاح والتوفيق



العام الجامعي ٢٠١١/٢٠١٢ الفصل الدراسي الثاني

لجنة المصححين: أ.د. السيد محمود الشرفاوي، أ.د. محمد صمد الماهي، د. سامح شهاب

تعليمات الإجابة:

أجب على ثلاثة أسئلة منها السؤال الأول إجباري

السؤال الأول: (٦٠ درجة)

من الكلمات التي تتردد كثيراً في برامج الدعاية التسويقية في انثيرون كلمة أيزو "ISO" ماذا تعني في إطار الجودة؟ أبدأ في الاعتبار كل من النقاط الآتية:

(أ) مفهوم الجودة الشاملة. (٢٠ درجة)

(ب) مراحل تحقيق وتطوير الجودة الشاملة. (٢٠ درجة)

(ج) أهم مزايا تطبيق أنظمة الجودة. (٢٠ درجة)

السؤال الثاني: (٦٠ درجة)

تسبب موسمية الإنتاج الزراعي وطول الموسم الإنتاجي في حدوث عدم التوازن بين العرض والطلب في السوق فتظهر التقلبات السعرية الزراعية.. ما رأيك في ذلك؟ مستخدماً رسوم منحنيات العرض والطلب لإيضاح وتفسير هذه التقلبات السعرية الزراعية مع ضرب مثال من الواقع العملي من عندك؟

السؤال الثالث: (٦٠ درجة)

لاشك أن تغير المصدر وفات التسويقية يؤثر على المنتج والمستهلك ويظهر ذلك الأثر بوضوح في حالة مقارنة أوضاع العرض والطلب في كل من سوق المنتج وسوق المستهلك.. كيف يتم ذلك؟

السؤال الرابع: (٦٠ درجة)

هناك عوامل كثيرة يشرف عليها اختيار وسيلة النقل.. أذكر أهم هذه العوامل.. وهل بالضرورة استخدام وسيلة النقل الأرخص أي الأقل تكلفة في نقل السلعة الزراعية؟

نهاية أسئلة الامتحان

مع أطيب التمنيات بالاجاح والتوفيق..

## العام الجامعي ٢٠١٠/٢٠١١ الفصل الدراسي الأول

لجنة المصححين: أ.د. عبد النبي عبيد ، أ.د. سعد زخلول سليمان ، د. سامح شهاب

تعليمات الإجابة: أجب على جميع الأسئلة

## السؤال الأول: (٧٥ درجة)

- أ- ماهي أهم النظريات التي تفسر قيام التجارة الدولية؟ اشرحها باختصار.
- ب- ما المقصود بكل من : منطقة التجارة الحرة -- الاتحاد الجمركي -- السوق المشتركة --  
الاتحاد الاقتصادي .
- ج- ماهي أهم المنظمات الاقتصادية التابعة للأمم المتحدة واقتصادها كل منها.
- د- ماهي المعايير الأساسية لاتفاقية الجات.

## السؤال الثاني: (٧٥ درجة)

- أ- ماهي أهم عوائق تحرير تجارة السلع الزراعية.
- ب- ماهي الأطراف الرئيسية وأصحاب المصالح في المفاوضات الزراعية في اتفاقية الجات ومواقف كل مجموعة.
- ج- ماهي أهم الليات الحماية وآثارها الاقتصادية؟

## السؤال الثالث: (٧٥ درجة)

- أ- أكتب مذكرة مختصرة حول اتفاق المشاركة المصرية الأوروبية.
- ب- ماهي الملامح الرئيسية لقانون الاستثمار والتصدير في مصر.
- ج- ماهي الملامح الرئيسية لقانون الجمارك في مصر.

(نهاية أسئلة الامتحان)

مع أطيب التمنيات بالتجاح والتوفيق

العام الجامعي ٢٠١١/٢٠١٠ الفصل الدراسي الأول

أجدة الامتحان: أ.د. عمرو محمد المنعم ، أ.د. محمد حيدر متواتي ، د. سامح شهاب

تعليمات الاجابة: أجب على جميع الأسئلة

### السؤال الأول: (٥٠ درجة)

عرف التنمية الزراعية المتواصلة مع وصفها وبيان أهدافها ووضح أثر الممارسات الزراعية السلبية عليها والمقترحات التي تراها لتحقيقها.

### السؤال الثاني: (٤٠ درجة)

أجب في أربع من الموضوعات التالية:

- ١- مستويات النمو الدول العالم الثالث.
- ٢- التغييرات التي لحقت بالزراعة المصرية حتى ٢٠١٠.
- ٣- خصائص العمالة الزراعية في الدول المتخلفة.
- ٤- مستوى الدخل والمعيشة لدول العالم الثالث.
- ٥- ظاهرة البطالة الهيكلية.

### السؤال الثالث: (٢٠ درجة)

- ١- تكلم بملخص عن الزراعة المتشعبة وأهدافها ومتطلبات التحول إليها والآفاق المستقبلية لها.
- ٢- وضح تعديلات التنمية الزراعية المتواصلة.

(نهاية أسئلة الامتحان)

مع أطيب التمنيات بالنجاح والتوفيق

العام الجامعي ٢٠١٠/٢٠١١ الفصل الدراسي الأول

لجنة الممتحنين: أ.د. السيد الشرفاوي ، أ.د. محمد محمد المالحى ، د. سامح شهاب

تعليمات الإجابة: أجب على جميع الأسئلة

السؤال الأول: (٢٠ درجة)

- (أ) أذكر باختصار الدعائم التي يركز عليها مفهوم الجودة (٢٠ درجة)
- (ب) فرق بين سلسلة (ISO) (9000) ، سلسلة (ISO) (14000) (٢٠ درجة)
- (ج) ماهي الخطوات التي تتبع لتحقيق الجودة الشاملة (٢٠ درجة)

السؤال الثاني: (٢٠ درجة)

فرق بين ثلاثة فقط من بين المفاهيم الخمسة الآتية:

- (أ) تاجر الجملة وتاجر التجزئة (٢٠ درجة)
- (ب) عمليات التسميع الزراعي الضامرة للوزن والأخرى الكاسية للوزن (٢٠ درجة)
- (ج) الطلب الأمامي (الابتدائي) على السلعة والطلب المشتق (٢٠ درجة)
- (د) الخدمات التسويقية والعمليات (الوظائف التسويقية) (٢٠ درجة)
- (هـ) تكاليف النقل لتسكك الحديدية بالميارات والنقل المائي (٢٠ درجة)

السؤال الثالث: (٣٠ درجة)

من خلال دراستك لحماية التعبئة والتغليف أجب على ما يأتي:

- (أ) لماذا تقوم بحماية التعبئة والتغليف بالرغم من أنها مكلفة (٣٠ درجة)
- (ب) ماهي المبررات التي تستدعي تغيير العبوة ... من وجهة نظرك (٣٠ درجة)

(نهاية أسئلة الامتحان)

مع أطيب التمنيات بالنجاح والتوفيق

العام الجامعي ٢٠١٠/٢٠١١ الفصل الدراسي الأول

لجنة الممتحنين: أ.د. السيد الشرفاوي ، أ.د. محمد محمد الماهي د. سامح شهاب

تعليمات الإجابة: أجب على جميع الأسئلة

السؤال الأول: (٦٠ درجة)

- (أ) أذكر باختصار الدعائم التي يركز عليها مفهوم الجودة (٢٠ درجة)
- (ب) فرق بين سلسلة (ISO) (9000) ، سلسلة (ISO) (14000) (٢٠ درجة)
- (ج) ماهي الخطوات التي تتبع لتحقيق الجودة الشاملة (٢٠ درجة)

السؤال الثاني: (٦٠ درجة)

فرق بين ثلاثة فقط من بين المفاهيم الخمسة الآتية:

- (أ) تاجر الجملة وتاجر التجزئة (٢٠ درجة)
- (ب) عمليات التصنيع الزراعي الخاضعة للوزن والأخرى الكاسية للوزن (٢٠ درجة)
- (ج) الطلب الأولي (الابتدائي) على السلطة والحلأب المشتق (٢٠ درجة)
- (د) الخدمات التسويقية والعمليات (الوظائف التسويقية) (٢٠ درجة)
- (هـ) تكاليف النقل المسكك الحديدية بالسيارات والنقل المائي (٢٠ درجة)

السؤال الثالث: (٦٠ درجة)

من خلال دراستك لعملية التعبئة والتغليف أجب على ما يأتي:

- (أ) لماذا نقوم بعملية التعبئة والتغليف بالرغم من أنها مكلفة (٣٠ درجة)
- (ب) ماهي المبررات التي تستدعي تغيير العبوة ... من وجهة نظرك (٣٠ درجة)

(نهاية أسئلة الامتحان)

مع أطيب التمنيات بالنجاح والتوفيق



## السؤال الأول: (٦٠ درجة)

إذا أبحرت سفينة من الميناء (أ) إلى الميناء (ب) وعليها أربعة آلاف طن بمسافة ٦٠٠ ميل وفي الميناء (ب) أفرغت من حمولتها ألفي طن وشحنت ألفي طن ثم أبحرت إلى الميناء (ج) لمسافة ١٢٠٠ ميل وبه أفرغت واحد ألف طن وشحنت ثلاثة آلاف طن ثم أتجهت إلى الميناء ألف مرة أخرى.

الميناء (ب): حساب معامل تحميل هذه السفينة خلال رحلتها عبر هذه الموانئ علماً بأن حمولتها الصافية هي خمسة آلاف طن .

## السؤال الثاني: (٦٠ درجة)

أذكر فقط القوانين المستخدمة في حساب طاقة النقل داخل الميناء وأذكر أهمية حساب هذه الطاقة .

## السؤال الثالث: (٦٠ درجة)

يحتكر القمح من المحاصيل الغذائية الاستراتيجية التي يتم إنتاجها واستيرادها بكميات كبيرة في مصر... إلا أن هذه الكميات تتعرض لأمراض كبيرة لوجود قصور في حماية التخزين . وضح ذلك من خلال اجابتك على النقاط الآتية:

أ- السعات التخزينية الحالية للقمح والتفويج (٢٠ درجة)

ب- السعات التخزينية المستقبلية للقمح والتفويج (٢٠ درجة)

ج- الجدوى الاقتصادية من إنشاء الصوامع (٢٠ درجة)

(نهاية أسئلة الامتحان)

مع أطيب التمنيات بالنجاح والتفويج

العام الجامعي ٢٠١٠/٢٠١١ الفصل الدراسي الأول

لجنة الممتحنين: أ.د. السيد الشرقاوي ، أ.د. محمد محمد الماھي د. سامح شهاب

تعليمات الإجابة: أجب على جميع الأسئلة

السؤال الأول: (٦٠ درجة)

- (أ) أذكر باختصار الدعائم التي يركز عليها مفهوم الجودة (٢٠ درجة)
- (ب) فرق بين سلسلة (Iso) (9000) ، سلسلة (Iso) (14000) (٢٠ درجة)
- (ج) ماهي الخطوات التي تتبع لتحقيق الجودة الشاملة (٢٠ درجة)

السؤال الثاني: (٦٠ درجة)

فرق بين ثلاثة فقط من بين المفاهيم الخمسة الآتية:

- (أ) تاجر الجملة وتاجر التجزئة (٢٠ درجة)
- (ب) عمليات التصنيع الزراعي الخاسرة للوزن والأخرى الكاسبة للوزن (٢٠ درجة)
- (ج) الطلب الأولي (الابتدائي) على السلعة والطلب المشتق (٢٠ درجة)
- (د) الخدمات التسويقية والعمليات (الوظائف التسويقية) (٢٠ درجة)
- (هـ) تكاليف النقل للسكك الحديدية بالسيارات والنقل المائي (٢٠ درجة)

السؤال الثالث: (٦٠ درجة)

من خلال دراستك لعملية التعبئة والتغليف أجب على ما يأتي:

- (أ) لماذا نقوم بعملية التعبئة والتغليف بالرغم من أنها مكلفة (٣٠ درجة)
- (ب) ماهي المبررات التي تستدعي تغيير العبوة ... من وجهة نظرك (٣٠ درجة)

(نهاية أسئلة الامتحان)

مع أطيب التمنيات بالنجاح والتوفيق



جامعة الإسكندرية  
كلية الزراعة  
قسم الاقتصاد وإدارة الأعمال الزراعية  
الفرقة الرابعة

اسم: كوكب المقرن: ٢٤٠٥  
(مبادئ المحاسبة الزراعية)  
مدة الامتحان: ساعتان  
تاريخ وميعاد الامتحان: ٢٠١٦/١/١١ من ١٠-١٢  
الدرجة الكلية ثلاثين: ١٢٠ درجة

### انعام الجامعي ٢٠١٥/٢٠١٦، الفصل الدراسي الأول

لجنة الممتحنين: ١- أ.د. محمد محمد الناجي ٢- أ.د. عون خير الله عون ٣- د. محمد علي فتح الله

#### السؤال الأول: (٦٠ درجة)

أ- وضع المقصود بكل من: المحاسبة السالية، الأصول وأنواعها، العملية السالية، رأس المال، العقارات والمنقولات.  
ب- في ٢٠١٥/١/١ بدء أحد المشروعات الزراعية نشاطه الإنتاجي برأس المال (القيمة بالألف جنيه) موزع في الأصول التالية:

١٠٠ مبانى، ٣٠ عدد أدوات، ٥٠ حيوانات، ٢٠ أسمدة كيميائية، ٣٠ أعلاف، ١٠ أدوات بيضرية، ١٠ تقاوي، ٢٠ نقدية بالصندوق، ٣٠ نقدية بالبنك.

المطلوب: تقييد الأصول المسابقة بدفتر يومية المشروع. ثم ترحيل هذه الأصول إلى حساباتها بدفتر الأستاذ واستخراج رصيد كل حساب. ثم عمل ميزان المراجعة بالمجاميع والأرصدة معاً.

#### السؤال الثاني: (٦٠ درجة)

إذا كان لديك الأرصدة المستخرجة من دفاتر أحد المشروعات الزراعية في ٢٠١٣/١٢/٣١ وهي:

#### الأرصدة المدينة بالجنبيه:

٧٠٠٠٠ مبانى، ٥٠٠٠٠ معدات، ٣٠٠٠٠ مشتريات، ٤٠٠٠٠ مردودات مبيعات، ٣٠٠٠٠ عمولة وكلاء الشراء، ٤٠٠٠٠ بضاعة في ٢٠١٣/١/١، ٢٠٠٠٠ مبيعات، ٦٠٠٠٠ إيجار، ٣٠٠٠٠ مصروفات إدارية، ٥٠٠٠٠ مصروفات بيع وتوزيع، ٢٠٠٠٠ خصم مسموح به، ١٠٠٠٠٠ ملينون، ١٠٠٠٠٠ أوراق قبض، ٣٠٠٠٠٠ أوراق مالية، ٤٠٠٠٠٠ نقدية بالصندوق، ٦٠٠٠٠٠ نقدية بالبنك، ٣٠٠٠٠ ديون معترمة، ٥٠٠٠٠ فائدة مدينة، ٢٠٠٠٠ مسحوبات.

#### الأرصدة الدائنة بالجنبيه:

٣٦٠٠٠٠ رأس المال، ٦٠٠٠٠٠ مبيعات، ٢٠٠٠٠ مردودات، مشتريات، ٥٠٠٠٠٠ قرض، ١٠٠٠٠٠ دائنون، ٥٠٠٠٠ خصم مكتسب، ٢٠٠٠٠٠ أوراق دفع، ٣٠٠٠٠٠ فائدة دائنة، ٧٠٠٠٠٠ بضاعة في ٢٠١٣/١٢/٣١.

المطلوب: عمل كل من حسابي المتأخرة والأرباح والخسائر عن السنة المنتهية في ٢٠١٣/١٢/٣١، وإعداد السيزانية في ذلك التاريخ.

مع أطيب الأمنيات بالتوفيق والنجاح،،،،،،،



امتحان الفصل الدراسي الأول للعام الجامعي ٢٠٢٣/٢٠٢٤

لجنة الامتحان: أ.د. الحسين الصيفي ، أ.د. عصام أبو الوفاء، أ.د. أو أي فيا صالح

مذكرة الامتحان:

اجبوا على جميع الأسئلة الآتية

السؤال الأول: (٦٠ درجة)

وضح مع الرسم

توازن المنتج في سوق المنافسة الكاملة في المدى الطويل -- مراحل دالة الإنتاج -- الناتج الصغيم للربح ، الناتج الأمثل -- نقطة الإخلاق.

السؤال الثاني: (٦٠ درجة)

١- حددات النموذج السوقي.

٢- العوامل المؤثرة على الطلب

٣- وضح بطريقة عمل الميزانية الإنتاجية

٤- ماهي المعايير المستخدمة في دراسة الجدوى الاقتصادية

السؤال الثالث: (٦٠ درجة)

إذا كانت لديك البيانات التالية :

١- سحب المهندس خالد من حسابه الجاري بالبنك مبلغ وقدره ٢٥٠٠٠٠ جنيه أودعهم صندوق مزرعته في يوم ٢٠١٣/١/١.

٢- اشترى أعلاف قيمتها ٦٠٠٠ جنيه على الحساب من الشركة المتحدة للأعلاف.

٣- باع أعلاف قيمتها ٣٠٠٠ جنيه تبدأ في يوم ٢٠١٣/١/٣.

٤- سحب المهندس / خالد مبلغ وقدره ٢٥٠٠٠ جنيه للشركة المتحدة للأعلاف في يوم ٢٠١٣/١/٤.

٥- استأجر عمالة قيمتها ١٠٠٠ جنيه في يوم ٢٠١٣/١/٥.

المطلوب: توريد هذه القيود في دفتر يومية وتحويلها إلى دفتر الأستاذ. وعمل الميزانية بالأرصدة والمجاميع.

نهاية أسئلة الامتحان

مع أطيب التمنيات بالنجاح والتوفيق.

العام الجامعي ٢٠١١/٢٠١٠ الفصل الدراسي الأول

لجنة الممتحنين: أ.د. عبد النبي عبد ، أ.د. محمد زكي شلوان سليمان ، د. سامح شهاب

تعليمات الإجابة: أجب على جميع الأسئلة

السؤال الأول: (٧٥ درجة)

- أ- ماهي أهم النظريات التي تفسر قيام التجارة الدولية؟ اشرحها باختصار.
- ب- ما المقصود بكل من: منطقة التجارة الحرة -- الاتحاد الجمركي - السوق المشتركة -- الاتحاد الاقتصادي.
- ج- ماهي أهم المنظمات الاقتصادية التابعة للأمم المتحدة واختصاص كل منها.
- د- ماهي المبادئ الأساسية لاتفاقية الجات.

السؤال الثاني: (٧٥ درجة)

- أ- ماهي أهم عوائق تحرير تجارة السلع الزراعية.
- ب- ماهي الأطراف الرئيسية وأصحاب المصالح في المفاوضات الزراعية في اتفاقية الجات ومواقف كل مجموعة.
- ج- ماهي أهم آليات الحماية وأثارها الاقتصادية؟

السؤال الثالث: (٧٥ درجة)

- أ- أكتب مذكرة مختصرة حول اتفاق المشاركة المصرية الأوروبية.
- ب- ماهي الملامح الرئيسية لقانون الاستيراد والتصدير في مصر.
- ج- ماهي الملامح الرئيسية لقانون الجمارك في مصر.

(نهاية أسئلة الامتحان)

مع أطيب التمنيات بالنجاح والتوفيق



انعام الجامعي ٢٠١٠/٢٠١١ الفصل الدراسي الثاني

لجنة الممتحنين: ١- ا.د. عبد النبي بسيوني عبيد ٢- ا.د. رفعت عبد الوهاب نقوشة ٣- ا.د. سعد زغول سليمان

تعليمات الإجابة:

أجب على جميع الأسئلة

السؤال الأول: (٧٠ درجة)

"أنشئت الهيئة العامة للرقابة على الصادرات والواردات بقرار جمهوري في ١٩٧١ كجهاز خدمي وتنفيذي يقوم

بمباشرة مجموعة من الأنشطة والمطلوب:

١- بيان الأنشطة التي تتولاها الهيئة

٢- خطوات فحص وتحليل الصادرات

٣- شهادات المنشأ التي تصدرها

٤- السلع الخاضعة للرقابة النوعية على الصادرات .

٥- الهيكل الإداري للهيئة

السؤال الثاني: (٧٠ درجة)

"اتفاقية تحرير التجارة العالمية (الجات) تشمل على ما يعرف بالاتفاق تدابير الصحة والصحة النباتية" تكام باختصار عن

هذا الاتفاق الذي يحكم حركة التجارة العالمية فيما يتعلق بمواصفات السلع وتحليل المخاطر.

السؤال الثالث: (٧٠ درجة)

تكلم باختصار عن:

١- دستور الغذاء العالمي (CAC).

٢- الاتفاقية الدولية لوقاية النبات (IPPC)

٣- المكتب الدولي للأوبئة (OIE).

نهاية أسئلة الامتحان



العام الجامعي ٢٠١١/٢٠١٠ الفصل الدراسي الثاني

أجنحة الممتحنين: ١- أ.د. السيد الشرباشي ٢- أ.د. أوليفيا صائغ ٣- أ.د. محمد الماحي

تعليمات الإجابة:

١- أجب على ثلاثة أسئلة فقط من ضمنه السؤال الأول

٢- لن يلتفت إلى إجابة أي سؤال زائد عن المطلوب

السؤال الأول: إجباري (٤٠ درجة)

"لاشك أن التسويق الإلكتروني والتجارة الالكترونية يختلف عن التسويق التقليدي". ارسم شكلاً تخطيطياً يوضح

ذلك من خلال مرسدتك ومعرفتك للأنوع السوقي في ظل هذا النوع الجديد من التسويق والتجارة؟

السؤال الثاني: (٤٠ درجة)

اكتب مقالة مختصرة فقط في كل نقطة من النقاط العظمى التسويقية التالية:

١- تطوير وتنفيذ المصلحة ممكن لكن هل الخدمة ممكن أيضاً؟ (١٠ درجة)

٢- (PGI) السالبة ياتري أفضل من الموجبة؟ (١٠ درجة)

٣- حتى العولمة دخلت في التسويق والتجارة الالكترونية وأثرت عليه .. كيف؟ (١٠ درجة)

٤- تسعى المنظمة إلى زيادة (DV) لارضاء العميل .. مارأيك؟ (١٠ درجة)

السؤال الثالث: (٤ درجات)

إذا كانت الكمية المطلوبة أثناء السنة هي ٣٢٠ وحدة وتكلفة أمر الشراء للطلبية هي ١٠ جنيهات وتكلفة الاحتفاظ للوحدة هي ٢٠ جنيه وتكلفة النفاذ للوحدة هي ٤٠ جنيه. وبصفتك متخصص في التسويق والإدارة طالب مناك مدير الشركة حساب العدد الاقتصادي للطلبات الواجبة للكمية المطلوبة متى يتجنب المدير الحساب المترتبة على زيادة التكاليف، فما هي كمية الطلبية الواجبة وعدد الطلبات التي سيتم تنفيذها في إدارة المشتريات وإدارة الإنتاج.

السؤال الرابع: (٤ درجات)


يقال .. أن هناك طرق بيانية وحسابية لتقدير الكمية الاقتصادية من مشتريات الإنتاج للمشروع. ما رأيك؟  
مبدلاً (ميرضا) على صحة هذا الرأي بضمير مثل واحد بياني بعدما عاينه أسماء المتغيرات المستخدمة في الشكل.  
وضرب مثل آخر ورد في كتابة أي قانون تراه مناسباً لحساب هذه الكمية بطريقة مبدل المحجب ومثل الإنتاج اليومي مع ذكر ماتفيد الأخر ونسب التي سوف تستخدم في القانون الذي قدمت بلفظان، وتصحيح به الحساب المطلوب؟

(نهاية أسئلة الامتحان)

مع أختي، التهانيل بنا جميعاً والتوفيق







العام الجامعي ٢٠١٠/٢٠١١ الفصل الدراسي الثاني

لجنة الامتحان: ١- ا.د. عبد اللطيف الفائق ٢- ا.د. رفعت لقوشة ٣- ا.د. سعد زخول سليمان

تعليمات الإجابة:

١- اجب على جميع الأسئلة التالية:

السؤال الأول: (٥٠ درجة)

لقد كانت طبيعة النظام الاقتصادي في أوروبا قبل قيام الثورة الصناعية (أواخر القرن ١٨) آثاراً واضحة انعكست

في زيادة قاعدة المصنمين والتفاوت الموضح في توزيع الملكيات الزراعية

أ- ناقش العبارة السابقة في ضوء ما درست. (٢٥ درجة)

ب- اشرح باختصار الخطوات الرئيسية لإنشاء الجمعيات التعاونية. (٢٥ درجة)

السؤال الثاني: (٥٠ درجة)

أ- وضح رأيك باختصار بصدد التسويق التعاوني في ظل التحرر الاقتصادي. (٢٥ درجة)

ب- اعرض لدور الجمعيات الزراعية بمناطق الائتمان الزراعي في مجالات التنمية الريفية. (٢٥ درجة)

السؤال الثالث: ( ٥٠ درجة)

يرى البعض أن التشريع التعاوني الزراعي المصري الحالي يشوبه بعض القصور مما يجعله غير ملائماً لمسايرة التغييرات الاقتصادية والاجتماعية والسياسية.

- أ- اشرح العبارة السابقة موضعاً أهم القضايا الواجب أن يتضمنها التشريع. (٢٥ درجة)
- ب- ضع مقترحاً بالتدابير الخاصة بالتشريعات القائمة في إطار عمدهاتها. (٢٥ درجة)

السؤال الرابع: ( ٦٠ درجة)

اشرح بالتفصيل أهم الملامح الخاصة والأفكار التنويرية لكل من رائدي التعاون الإقتصادي والامتنهالي.

(نهاية أسئلة الامتحان)

مع أطيب التحيات بالتمناح والتوفيق

اسم وكنية المقرر: افتصاد زراعي ٢٠١٥  
مبادئ المحاسبة



جامعة أسيوط  
كلية الزراعة  
قسم الاقتصاد وإدارة الأعمال  
الزراعية  
افتصاد زراعي

مدة الامتحان: ساعتان

تاريخ وميعاد الامتحان: ٢٠١٠/٦/٢٩ من ١١-٩  
الدرجة الكلية للامتحان: ١٨٠ درجة

انعام الجامعة: ٢٠١١/٢٠١٠ الفصل الدراسي الثاني

لجنة الممتحنين: ١- د. عبد المنعم النجدي ٢- د. ريم رجب ٣- د. هادي حبيب السيد مهندي

ملاحظات الإجابة:

أجبنا على جميع الأسئلة

السؤال الأول: (٦٠ درجة)

١- عرف الميزانية العمومية مبيناً طرق تبويبها (١٥ درجة)

٢- من دفاتر إحدى المزارع العاملة في نشاط تسمين الدجاج استخرجت البيانات التالية عن السنة المنتهية في

(٤٥ درجة)

٢٠١٠/١٢/٣١

البيانات	العدد	القيمة بالجنيه
رصيد أول المدة من الدجاج (٢,٥ جنيه للوحدة)	٩٠٠٠	٢٢٥٠٠
مشتريات الدجاج (٢,٥ جنيه للوحدة)	٤٠٠٠٠	١٠٠٠٠٠
دجاج ذائق (٣,٢٥ جنيه للوحدة)	٤٠٠	١٢٠٠
مبيعات الدجاج نقداً (٥ جنيه ويتكافئ ٣,٢٥ جنيه)	٤٧٥٠٠	٢٢٧٥٠٠
الأراضي		٧٥٠٠٠
العنابر والمباني (تستهلك بمعدل ٣%)		٩٠٠٠٠
الأدوات والمعدات (تستهلك بمعدل ١٠%)		٥٢٥٠٠
التمويل وفرض (الفائدة ٩%)		٦٥٥٠٠
الأعلاف		١٨٠٠٠
أجور ومرتبات		١٢٨٣٠
مرتب طبيب بيطري		٤٠٠٠
مصاريف البيع		٣٠٠٠
إيرادات أخرى		١٦٨٠٠

المطلوب: تصويب الحسابات اللازمة لمزرعة الدجاج عن السنة المنتهية في ٢٠١٠/١٢/٣١

السؤال الثاني: (٦٠ درجة)

- ١- صور نموذجين لحسابين من حسابات مزارع الذجاج للتفريخ مبيّناً مفردات كل جانب (٢٠ درجة)
- ٢- الأرصدة التالية مستخرجة من ميزان مراجعة إحدى المنشآت التجارية في ٢٠١٠/١٢/٣١ بالجنبيه، كما قدرت بضاعة آخر المدة بمبلغ ١٧٥٠٠ جنبيه. (٤٠ درجة)

مدين	دائن	الحساب المستأجر
٩٩٠٠		بضاعة أول المدة
٢٢٠٠٠٠		المشتريات
٢٦٤٠٠		عمولة وأجور شراء
٤١٨٠		مصرفات نقل للداخل
	٣٢٤٥٠	المبيعات
		المرتبات
		الإيجار
		الخصم المسموح به
		المصرفات العمومية
		استهلاكات الآلات
	٣٩٦٠	الخصم المكتسب

المطلوب: تسوير حساب الأرباح والخسائر عن السنة المنتهية في ٢٠١٠/١٢/٣١.

السؤال الثالث: (٦٠ درجة)

- ١- في ٢٠١٠/٤/١ بدأت إحدى مزارع إنتاج الألبان نشاطها بالأموال التالية مقومة بالجنبيه (٢٥ درجة)
- ١٤٠٠٠٠ أرض زراعية      ٢٥٠٠٠٠ قرض من البنك
- ٩٥٠٠٠ مبانٍ مزرعية (مطابخ)      ٧٠٠٠٠ كم
- ١٢٥٠٠٠ عتبة ألبان


المطلوب: إجراء قرد رأس المال بيومية المزرعة، ثم توزيعها إلى الأستاذ.

- ٢- إذا ما توفرت لديك البيانات التالية عن إحدى المنشآت الصغيرة في ٢٠١٠/١٢/٣١ (٢٥ درجة)

أرصدة ميزان المراجعة	مبايعة عام ٢٠١٠
١٢٠٠ عمولة وكلاء البيع	١٣٥٠ عمولة وكلاء البيع
١٣٠٠ إيجار المخازن	١٤٠٠ إيجار المخازن
١٩٠٠٠ مرتبات	٢٠٠٠٠ مرتبات
١١٠٠ مصرفات دعاية وإعلان	١٠٠٠ مصرفات دعاية وإعلان

المطلوب: إثبات القورد الجردية اللازمة لتسوية المصروفات المذكورة.

نهاية أمثلة الامتحان



العام الجامعي ٢٠١١/٢٠١٠ الفصل الدراسي الثاني

لجنة المحققين: أس.د. عبد المطلب القافي، أس.د. ريم نقيشة، أس.د. حسني حبيب، السيد متولي

## تعليمات الإجابة:

أجاب على جميع الأسئلة

## السؤال الأول: (٦٠ درجة)

١- عرف الميزانية العمومية مبداً طرق تويدها. (١٥ درجة)

٢- من دفاتر إحدى المزارع العاملة في نشاط تسمين الدجاج استخرجت البيانات التالية عن السنة المنتهية في

(٤٥ درجة)

٢٠١٠/١٢/٣١

البيانات	العدد	القيمة بالجنيه
رصيد أول المدة من الدجاج (٢,٥ جنيه للوحدة)	٩٠٠٠	٢٢٥٠٠
مشتريات الدجاج (٢,٥ جنيه للوحدة)	٤٠٠٠٠	١٠٠٠٠٠
دجاج نافق (٣,٢٥ جنيه للوحدة)	٤٠٠	١٣٠٠
مبيعات الدجاج نقداً (٥ جنيه وبتكلفة ٣,٢٥ جنيه)	٤٧٥٠٠	٢٣٧٥٠٠
الأراضي		٧٥٠٠٠
العنابر والمباني (تستهلك بمعدل ٣%)		٩٠٠٠٠
الأدوات والمعدات (تستهلك بمعدل ١٠%)		٥٢٥٠٠
التمويل يفرس (الفائدة ٩%)		٦٥٥٠٠
الأحلاف		١٨٠٠٠
أجور ومرتبات		١٢٨٣٠
مرتب طبيب بيطري		٤٠٠٠
مصاريف البيع		٣٠٠٠
إيرادات أخرى		١٦٨٠٠

المطلوب: تصوير الحسابات اللازمة لمزرعة الدجاج عن السنة المنتهية في ٢٠١٠/١٢/٣١.

السؤال الثاني: (٢٠ درجة)

- ١- صور نموذجين لمسابين من حسابات مزارع الدجاج للتفريخ مبيناً مفردات كل جانب (٢٠ درجة)
- ٢- الأرصدة التالية استخرجت من ميزان مراجعة إحدى المنشآت التجارية في ٢٠١٠/١٢/٣١ بالجندي. كما قدرت بضاعة آخر المدة بمبلغ ١٧٥٠٠ جنيه.

المحور الثاني	الدين	المدين
بضاعة أول المدة		٩٩٠٠
المشتريات		٢٢٠٠٠٠
عمولة وأجور الشراء		٢٦٤٠٠
مصروفات نقل للداخل		٤١٨٠
المبيعات	٣٢٤٥٠٠	
المبيعات		٢٣٠٠٠
الأرباح		٤٩٠٠
الخصم المستروح به		١٣١٩٠
المصروفات العمومية		١٤٨٠٠٠
استهلاكات الآلات		٥٢٨٠
الخصم المكتمل	٣٩٦٠	

المطلوب: تصدير حساب الأرباح والشهائر من السنة المنتهية في ٢٠١٠/١٢/٣١.

السؤال الثالث: (٢٠ درجة)

- ١- في ٢٠١٠/٤/١ بدأت إحدى مزارع إنتاج الألبان نشاطها بالأموال التالية مقومة بالجندي (٢٥ درجة)
- ١٤٠٠٠٠ أراضي زراعية ٢٥٠٠٠ قرض من البنك
- ٩٥٠٠٠ مبانى مزرعية (مستأجر) ٧٠٠٠٠ تم
- ١٢٠٠٠٠ مائتة ألوان

المطلوب: إجراء قيود رأس المال بيومية المزرعة، ثم ترخيصها إلى الأستاذ.

- ٢- إذا ما تقررت لديك البيانات التالية عن إحدى المنشآت الصغيرة في ٢٠١٠/١٢/٣١ (٣٥ درجة)

أرصدة ميزان المراجعة	ماترور حاتم ٢٠١٠
١٢٠٠٠ عمولة وكلاء البيع	١٣٥٠٠ عمولة وكلاء البيع
١٣٠٠٠ إيجار المخازن	١٤٠٠٠ إيجار المخازن
١٩٠٠٠ مرتبات	٢٠٠٠٠ مرتبات
١١٠٠٠ مصروفات دعابة وإعلان	١٠٠٠٠ مصروفات دعابة وإعلان

المطلوب: اثبات القيود الجردية اللازمة لتسوية المصروفات المذكورة.

نهاية أسئلة الامتحان

جامعة الإسكندرية

كلية الزراعة

قسم الاقتصاد وإدارة الأعمال الزراعية

الفرقة: رابعة مجتمع ريفي



اسم وكود المقرر: ٢٤٠٨

التعاون الزراعي

مدة الامتحان: ساعتان

تاريخ وميعاد الامتحان: ٢٠١١/٦/١٨ من ٩-١١

الدرجة الكلية للامتحان: ٢١٠ درجة

انعام الجامعي ٢٠١١/٢٠١٠ الفصل الدراسي الثاني

لجنة الممتحنين: ١- أ.د. عبد اللطيف الفائق ٢- أ.د. رُفعت لقوشة ٣- أ.د. سمعت ز شاول سنيمان

تعليمات الإجابة:

١- أجب على جميع الأسئلة التالية:

السؤال الأول: (٥٠ درجة)

"لقد كانت طبيعة النظام الاقتصادي في أوروبا قبل قيام الثورة الصناعية (أواخر القرن ١٨) آثاراً واضحة انعكست في زيادة قاعدة المعلمين والتفاوت الواضح في توزيع المنكبات الزراعية"

أ- ناقش العبارة السابقة في ضوء ما درست.

(٢٥ درجة)

ب- اشرح باختصار الخطوات الرئيسية لإنشاء الجمعيات التعاونية.

(٢٥ درجة)

السؤال الثاني: (٥٠ درجة)

أ- وضح رأيك باختصار بمدى التسويق التعاوني في ظل التحرر الاقتصادي.

(٢٥ درجة)

ب- اعرض لدور التعاونيات الزراعية بمناطق الاجتمان الزراعي في مجالات التنمية الريفية. (٢٥ درجة)

السؤال الثالث: ( ٥٠ درجة )

يرى البعض أن التشريع التعاوني الزراعي المصدر الذي يشوبه بعض القصور مما يجعله غير ملائماً

امسألة الأزمات الاقتصادية والاجتماعية والسياسية<sup>٥</sup>

أ- يشرح العبارة السابقة موضحاً أهم القضايا التي يجب أن يتضمنها التشريع. (٢٥ درجة)

ب- صيغ مقترحات بالتعديلات الخاصة بالتشريعات القادمة في إطار محدوداتها. (٢٥ درجة)

السؤال الرابع: ( ٦٠ درجة )

اشرح باختصار أهم الاتجاهات الخاصة بالأنكار التعاونية كالمزج والتعاون الإلكتروني والاشتراك

( نهاية أسئلة الامتحان )

مع أطيب التمنيات بالنجاح والتوفيق





العام الجامعي ٢٠١١/٢٠١٠ الفصل الدراسي الثاني

لجنة الامتحان: أ. د. نشوى عبد الحميد الصاوي أ. د. محمد محمد العاصي أ. د. أحمد النعمان

تعليمات الإجابة:

أجب على جميع الأسئلة التالية:

السؤال الأول: (٧٠ درجة)

الجدول التالي يوضح الإيرادات والتكاليف المتوقعة لأحد المشروعات الزراعية

السنة	إجمالي الإيرادات	إجمالي التكاليف	سعر الخصم			
			%١٠	%١٥	%٢٠	%٢٥
١	-	٢٠٠٠٠	١٩٠٩	١٨٧٠	١٨٢٣	١٨٠٠
٢	-	١٠٠٠٠	٩٨٣٦	٩٥٦٦	٩٢٩٤	٩٠٤٠
٣	١٧٥٠٠	٧٥٠٠	١٧٥١	١٦٥٨	١٥٧٩	١٥١٢
٤	١٧٥٠٠	٧٥٠٠	١٦٨٣	١٥٧٢	١٤٨٢	١٤١٠
٥	١٧٥٠٠	٧٥٠٠	١٦٢١	١٤٩٧	١٤٠٢	١٣٢٨
٦	١٧٥٠٠	٧٥٠٠	١٥٦٤	١٤٢٢	١٣٣٥	١٢٦٢
٧	١٧٥٠٠	٧٥٠٠	١٥١٣	١٣٧٦	١٢٧٩	١٢١٠

المطالبة: إجراء التحليل المالي لهذا المشروع. وأذكر انطباحتك عن هذا المشروع إذا علمت أن تكلفة الفرصة البديلة ١٠%.

السؤال الثاني: (٧٠ درجة)

تناول بالشرح اثنين فقط مما يلي:

(٣٥ درجة)

١- أهمية دراسة الجدوى الاقتصادية للمشروعات.

(٣٥ درجة)

٢- دراسة الجدوى التمويلية وطرق سداد القروض.

(٣٥ درجة)

٣- طرق حساب الإهلاكات للأصول الاستثمارية بجميع أنواعها.

السنة الثالثة ( ٢٠ درجة )

(١) وضح مع الرسم : (١٥ درجة)

دالة متوسطات التكاليف -- تمدد وانكماش التكاليف -- تمدد وانكماش الطلب -- انتقال العرض -- النتائج الأمثل،  
النتائج الأمثل الربح، نقطة الإغلاق -- توازن المنتج في سوق الاحتكار الكامل في المدى الطويل.

(٢) وضح ما يأتي : (٢٥ درجة)

- شروط سوق المنافسة الكاملة.
- كيفية تصميم ميزانية إنتاجية لإنتاج ثلاثة منتجات زراعية.
- العوامل المؤثرة على دخل المنتجات الزراعية.

( التوزيع الأمثل للاستهلاك )

مع اثنين، اكتب كيف يتأثر الناتج والتوزيع



العام الجامعي ٢٠١١/٢٠١٠ الفصل الدراسي الثاني

لجنة المشتمين : أ.د. نشوى الشطاوي . أ.د. مراك زكي . أ.د. سامح شهاب.

تعليمات الإجابة :

١ - أجب على الأسئلة الآتية .

٢ - عدد الصفحات : (٢) .

السؤال الأول :

(٢٠ درجة)

(٥٠ درجة)

١ - باستخدام قاعدة كرامر حل نظام المعادلات :

$$\begin{cases} x + y + z = 8 \\ x - y + 2z = 1 \\ 2x + 7y + 4z = 10 \end{cases}$$

$$\begin{cases} x + y + z = 8 \\ x - y + 2z = 1 \\ 2x + 7y + 4z = 10 \end{cases}$$

$$\begin{cases} x + y + z = 8 \\ x - y + 2z = 1 \\ 2x + 7y + 4z = 10 \end{cases}$$

٢ - أوجد النهايات العظمى والصغرى للدوال الآتية :

(٢٠ درجة)

$$(1) \quad f(x) = x^3 - 3x^2 + 1 \quad (10 \text{ درجات})$$

$$(2) \quad f(x) = x^2 - 5x + 6 \quad (10 \text{ درجات})$$

السؤال الثاني :

(٧٠ درجة)

١ - إذا علمت أن الربيع = ٧٠ س + ٦٠ س + ٨٠ س (٥٥ درجة)

$$60 \geq x + 2y + 3z$$

$$70 \geq x + 3y + 2z$$

$$65 \geq x + 2y + 3z$$

أوجد الخطة المثلى باستخدام التي تحقق أقصى ربح ممكن .

(٢ امن)

٢- أوجد قيمة ما يلي :

(١٥ درجة)

$$\frac{٦ \text{ من } ٣ + ١٢ \text{ من } ٢ - ٩}{٣ \text{ من } ٢ + ٤ \text{ من } ٣} \quad (١)$$

(٥ درجات)

$$(٢) \quad ٦ \text{ من } ٢ - ٧ \text{ من } ٥$$

(٥ درجات)

$$(٣) \quad (٣ - ٢ \text{ من } ٢ + ٧ \text{ من } ٤ - ٢ \text{ من } ٢) (٢ - ٢ \text{ من } ٢ - ٢ \text{ من } ٢)$$

(٥ درجات)

السؤال الثالث :

(٧٠ درجة)

٢- عرف كل من :

(٢٠ درجة)

الاقتصاد الرياضي ، المتغير ، الدالة ، المعادلة ، الاقتصاد القياسي

٣- اذكر فقط كل من :

(١٠ درجة)

(١) استخدامات الرياضيات في الاقتصاد.

(٤ درجات)

(٢) أنواع النماذج.

(٤ درجات)

(٣) أنواع المتغيرات.

(٤ درجات)

(٤) أنواع الصيغ الرياضية.

(٦ درجات)

(٥) أنواع النماذج الاقتصادية.

(٤ درجات)

(٦) خطوات تحديد الشكل الرياضي للنموذج والعوامل المحددة لعدد متادلاته.

(٦ درجات)

٤- وضح الفرق بين كل من :

(٢٠ درجة)

(١) النظرية الاقتصادية والاقتصاد الرياضي والاقتصاد القياسي.

(١٠ درجات)

(٢) الثابت والمتغير.

(٥ درجات)

(٣) الميل والمرونة.

(٥ درجات)

(نهاية أسئلة الامتحان)

مع ألبين التمنيات بالنجاح والتوفيق

(٢ من)


جامعة الإسكندرية

كلية الزراعة

قسم الاقتصاد وإدارة الأعمال

الزراعية

الفرقة الرابعة



استتم وكرد المقرر الاقتصاد الزراعي ٢٠١١/٢٠١٠  
السياسة والبرامج الزراعية

مدة الامتحان: ساعتان

تاريخ وميعاد الامتحان: ٢٠١١/٦/٢٥ من ١٩٠٩

الدرجة الكلية للامتحان: ٢١٠ درجة

العام الجامعي ٢٠١١/٢٠١٠ الفصل الدراسي الثاني

لجنة الممتحنين: ١- أ.د. محمود عبد الهادي شافعي ٢- أ.د. نجوى سعيد المأمون مصطفى ٣- أ.د. محمد محمد المناعي

تعليمات الإجابة:

أجب على جميع الأسئلة

السؤال الأول: (٧٠ درجة)

١- عرف المصطلحات الآتية: الإستراتيجية - السياسة الاقتصادية - التلوث البيئي - الفائض الزراعي - كفاءة

(٣٥ درجة)

الري - التضخم - الخطة.

٢- كون نموذج رياضي للسياسة الاقتصادية حيث الهدف النموذج تحقيق رفح  $W$  مستوى التشغيل  $L$  - تخفيض

مستوى الأسعار  $P$  و الأدوات المستخدمة لذلك الإنفاق الحكومي  $G$  ومعدل الأجور  $W$  مع إيضاح مكونات

(٣٥ درجة)

السياسة الاقتصادية ومضمونها ومبادئها.

السؤال الثاني: (٧٠ درجة)

(٣٠ درجة)

١- أذكر مؤشرات معايير تقييم السياسات الزراعية مع شرح أمثلة.

(٤٠ درجة)

٢- تكلم بإيجاز عن السياسة الزراعية خلال الفترة ١٩٧٤ - ١٩٨٩.

السؤال الثالث: (٧٠ درجة)

١- ماهي الملامح الرئيسية لبرنامج الإصلاح الاقتصادي في الاقتصاد المصري مع بيان إيجابياته وسلبياته. (٣٥

درجة)

٢- ماهي أهداف سياسة الموارد الأرضية وأهم المشاكل والمعوقات التي تواجهها. (٣٥ درجة)

نهاية أسئلة الامتحان

باسم وعودة العقرر ١٩٩٠  
السياسة والتنمية الزراعية

درة الامتحان: ١٠٠

تاريخ وميعاد الامتحان: ١٤/٥/٨ من ٦٠٩  
الدرجة الكلية للامتحان: ٩٠ درجة



جامعة الاسكندرية

كلية الزراعة

قسم الاقتصاد وإدارة الأعمال الزراعية

الفرقة: رابعة

العام الجامعي ١٣٠١٣/٢٠١٤ الفصل الدراسي الثاني

أجادة الامتحان: ٩٠ (٧٠ درجة) عدد المتعلم ٢٠٠٠  
أحد أسئلة الامتحان: ٤٠ (٧٠ درجة) دعاهم

تعليمات الإجابة:

أجب على جميع الأسئلة التالية:

السؤال الأول: (٧٠ درجة)

وضح المفاهيم الآتية:

الاستراتيجية - السياسة - الخطة - التخطيط - السياسة الاقتصادية وأنواعها - السياسة الزراعية

السؤال الثاني: (٧٠ درجة)

وضح برنامج مؤشرات ومعايير تفعيل السياسة الزراعية.

السؤال الثالث: (٧٠ درجة)

ماهي أهداف وملامح برنامج الإصلاح الاقتصادي الذي بدأ في مصر ١٩٩٠ مع ذكر الابتكارات والسياسات

(نهاية أسئلة الامتحان)

مع أطيب التمنيات بالنجاح والتوفيق

م.م. د. محمد عبد الحليم

د. محمد عبد الحليم



مدة الامتحان: ساعتان  
تاريخ وميعاد الامتحان: ٢٠١٤/٥/١٨ من ٩-٦  
الدرجة الكلية للامتحان: ١٨٠ درجة

العام الجامعي ٢٠١٤/٢٠١٢ الفصل الدراسي الثاني

لجنة الممتحنين: ١- أ.د. محمد الليف القاق ٢- أ.د. محمود عبد المنعم حسانى ٣- د. دعاء حسين إبراهيم

تعليمات الإجابة: أجب على جميع الأسئلة الآتية:

السؤال الأول: (٦٠ درجة)

أ- يمكن تصنيف المشروعات الصغيرة وفقاً لمسار متعددة، اشرح هذه العجارة. (٢٠ درجة).

ب- وضح بالرسم كل من دورة حياة المشروعات الصغيرة والتطور التاريخي لفكرة حاضنة المشروعات الصغيرة. (٢٠ درجة).

ج- في نقاط محددة وضح أهم المهارات التي يجب أن يلم بها أصحاب المشروعات الصغيرة. (٢٠ درجة).

السؤال الثاني: (٦٠ درجة)

تتميز المشروعات الصغيرة بالعديد من المميزات والخصائص التي تجعل لها الأولوية والمفاضلة إختيارها بين أحجام المشروعات المختلفة في ضوء تلك العجارة وضح أهم مقومات ومميزات وعيوب المشروعات الصغيرة الحجم وأبرز المخوقات والمشاكل التي تواجه هذه المشروعات.

السؤال الثالث: (٦٠ درجة)

أ- اشرح باختصار مفهوم "التعاقد من الداخل" موضعاً أهم أشكاله ومميزاته التي تساعد على نجاح هذا النشاط. (٢٠ درجة).

ب- في ضوء دراستك لمفهوم حاضنة الأعمال، أذكر الأنواع المختلفة للحاضنة موضحاً أهميتها ودورها في التنمية. (٢٠ درجة).

ج- فيما لا يزيد عن ٣ سطور وضح أثر المشروعات الصغيرة في القضاء على مشكلة البطالة محلياً ودولياً. (٢٠ درجة).

نهاية أسئلة الامتحان

عالمكم

مع أطيب التمنيات بالنجاح والتوفيق،

م.د. محمد

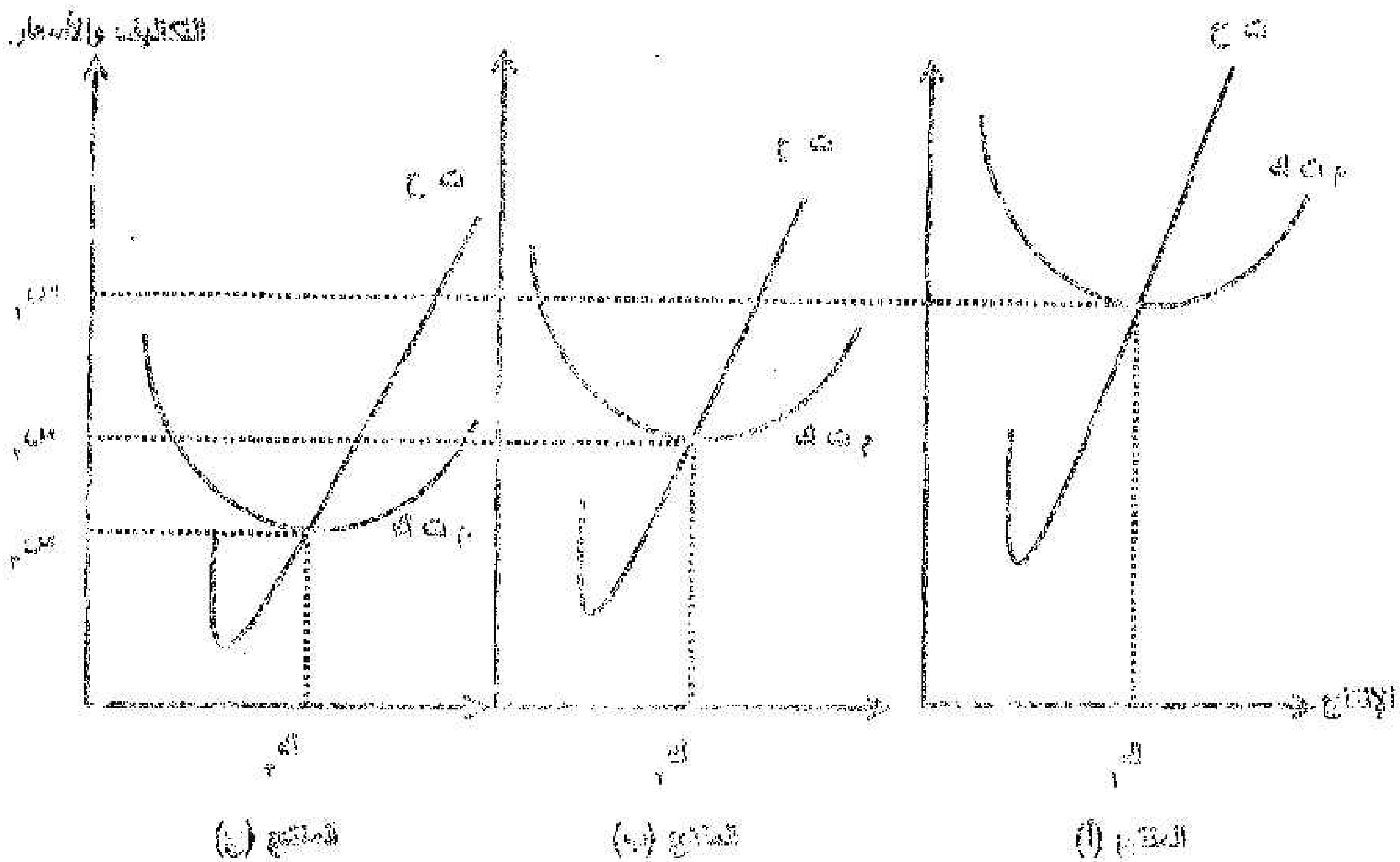
م.د. محمد

بـ. أُنقل الجدول التالي في كراسة الإجابة ، ثم حدد عدد وحدات حجم الناتج ، والمعمى الاقتصادي له ، وأنوع الأرباح عند المستويات السعرية الواردة بالجدول :

نوع الأرباح	المعمى الاقتصادي لحجم الناتج	عدد وحدات حجم الناتج	مستوى السعر
.....	.....	.....	1
.....	.....	.....	2
.....	.....	.....	3

(٤) من الشكل المقابل أُنقل الجدول التالي في كراسة الإجابة ثم حدد نوع الربح أو الخسارة عند المستويات السعرية المساندة:

(٩ درجات)



نوع الربح	المنتج (أ)	المنتج (ب)	المنتج (ج)
سعر الناتج	.....	.....	.....
سعر 1	.....	.....	.....
سعر 2	.....	.....	.....
سعر 3	.....	.....	.....

(نهاية أسئلة الامتحان)

مع أطيب التمنيات بالنجاح والتوفيق


(٤ من ٤)



المسألة الثالث : باستخدام المنحنيات التالية اوجبه عن الأتي :

رأس المال

(١٠٠٠٠٠٠ ل.ج)



(٢٠٠٠٠٠ ل.ج)

(١) من الشكل المقابل . أكمل العبارات التالية بعد تكاملها وعناية الإجابة :

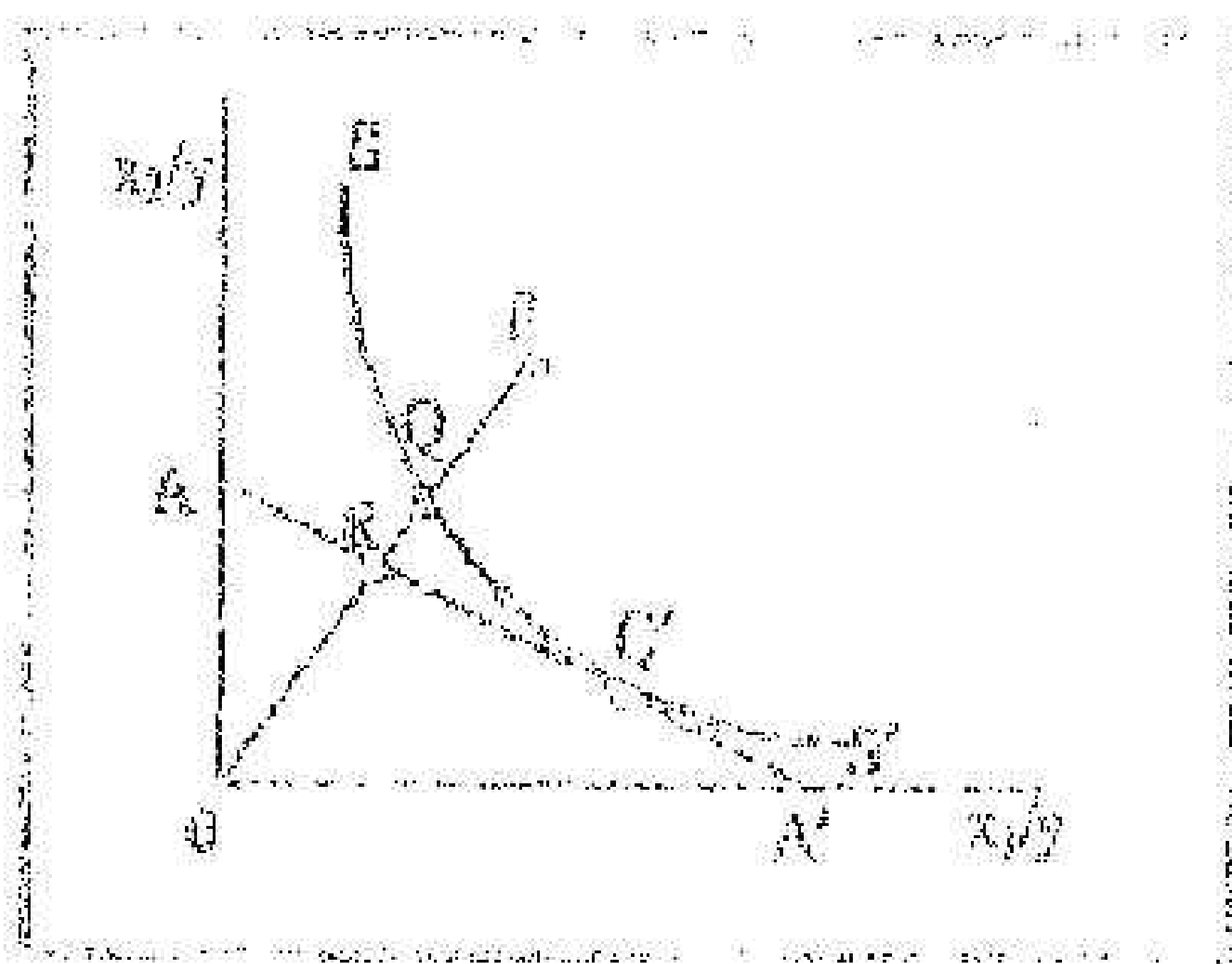
أ . النقطة (A) استوى مكثف .....

و . النقطة (B) استوى مكثف .....

ز . باستخدام الشكل المقابل اكتب في الفراغ التالي .....

(١٢٠٠٠٠ ل.ج)

(٢) من الشكل المقابل أكمل العبارات التالية بعد تكاملها وعناية الإجابة :



أ . النقطة (A) استوى مكثف .....

ب . النقطة (B) استوى مكثف .....

ج . النقطة (C) استوى مكثف .....

د . النقطة (D) استوى مكثف .....

هـ . النقطة (E) استوى مكثف .....

و . النقطة (F) استوى مكثف .....

ز . النقطة (G) استوى مكثف .....

ح . النقطة (H) استوى مكثف .....

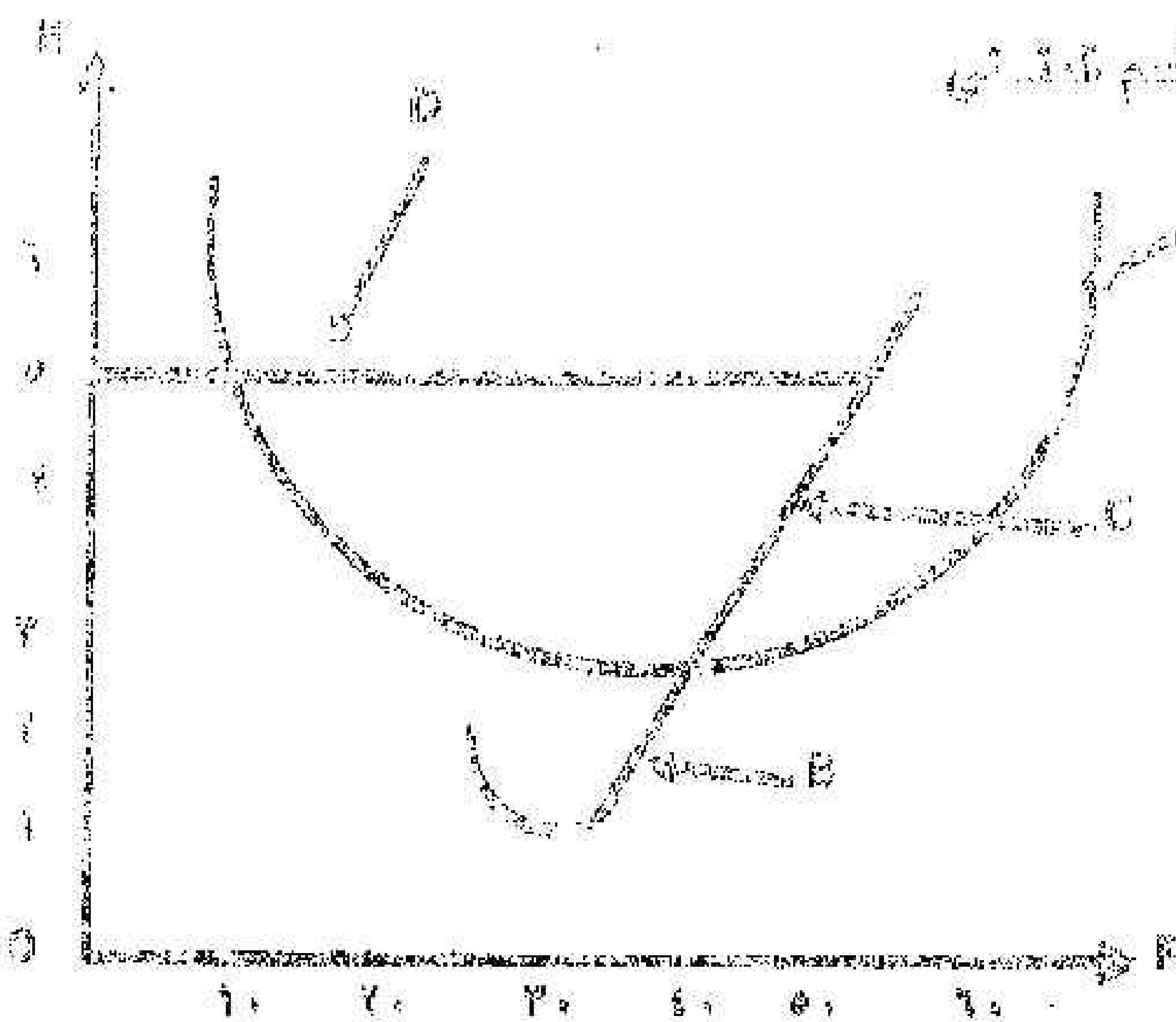
ط . النقطة (I) استوى مكثف .....

(١٠٠٠٠٠ ل.ج)

(٢) من الشكل المقابل اوجبه عن الأتي :

أ . أقل التكاليف التي تراعى الإزاحة ، ثم اكتب اسم تلك التكلفة

أو التكاليف التي تراعى الإزاحة



العرف	اسم العنصر أو البيان
A	.....
B	.....
C	.....
D	.....
E	.....
F	.....
G	.....
H	.....
I	.....
J	.....
K	.....
L	.....
M	.....
N	.....
O	.....
P	.....
Q	.....
R	.....
S	.....
T	.....
U	.....
V	.....
W	.....
X	.....
Y	.....
Z	.....

(٣ من ٤) تاريخ

جامعة الإسكندرية

كلية الزراعة

قسم الاقتصاد وإدارة الأعمال الزراعية



الفرقة: رابعة.

اسم وكونه المقرر: ٢٠١٨

دراسات الجدوى للمشروعات الزراعية

مدة الامتحان: ساعتان

تاريخ وميعاد الامتحان: ٢٠١٤/٥/٢٠ من ١١-١٠

الدرجة الكلية للامتحان: ١٤٠ درجة

العام الجامعي ٢٠١٤/٢٠١٣ الفصل الدراسي الثاني

لجنة الممتحنين: أ.د. الحسين الصيرفي ، أ.د. نشوي انتحاري ، أ.د. محمد المسعودي

تعليمات الإجابة:

أجب على جميع الأسئلة الآتية

السؤال الأول: (٤٠ درجة)

١- وضح مع الرسم  
موازن المنتج في سوق الاحتكار الكامل في المدى الطويل - مراحل دالة الإنتاج - الناتج المعظم للربح ، الناتج  
الأمثل - نقطة الإغلاق.

السؤال الثاني: (٤٠ درجة)

١- وضح محددات النموذج السوقي

٢- العوامل المؤثرة على الطلب

٣- ماضي المعايير المستخدمة في دراسة الجدوى الاقتصادية

السؤال الثالث: (٤٠ درجة)

"كلفت بإعداد دراسة جدوى اقتصادية لأحد المشروعات الاستثمارية"  
ووضح أهمية التخطيط لتلك المشروع بالنسبة للمقصد القومي ثم تناول باختصار تعريف المشروع ومكوناته  
وكيفية حساباته المتكاملة أصوله الاستثمارية.

السؤال الرابع: (٦٠ درجة)

إذا كانت ذوات البيئات التالية:

١- سحب المهندس عباس من حسابه الجاري بالبنك مبلغ وقدره ٢٥٠٠٠٠ جنيه أودعهم صندوق مزرعته في يوم

٢٠١٤/١/١

٢- اشترى أعلاف قيمتها ٧٠٠٠ جنيه على الحساب من الشركة المتحدة للأعلاف في يوم ٢٠١٤/١/٢

٣- باع أعلاف قيمتها ٢٥٠٠ جنيه نقداً في يوم ٢٠١٤/١/٣

٤- مدد المهندس / عباس مبلغ وقدره ٤٥٠٠ جنيه للشركة المتحدة للأعلاف في يوم ٢٠١٤/١/٤

٥- استأجر عمالة قيمتها ٧٠٠ جنيه في يوم ٢٠١٤/١/٥

المطلوب: تقييد هذه القيود في دفتر يومية وترحيلها إلى دفتر الأستاذ. وعمل الميزانية بالأرصدة والمجاميع.

نهاية أسئلة الامتحان

مع أطيب التمنيات بالنجاح والتوفيق،،،

الموافق



الفصل الدراسي الثاني ٢٠١٤/٥/٢٠

اسم الطالب: السيد المحسن العمري، رقم الامتحان: ١١٩

تعليمات الإجابة:

أجب على جميع الأسئلة الآتية

السؤال الأول: (٥٠ درجة)

١- وضع مع الرسم مراحل دالة الإنتاج - دالة متوسطات التكاليف - الناتج المستخدم الربح، الناتج الأمتل - نقطة الإحلاق - توازن المنتج في سوق الامتكار الكامل في المدى الطويل

السؤال الثاني: (٥٠ درجة)

- ١- العوامل المؤثرة على الطلب
- ٢- اذكر عناصر الإنتاج ثم تكلم عن إحداها بالتفصيل
- ٣- وضع محددات النموذج السوقي مع ذكر شروط سوق المنافسة الكاملة

السؤال الثالث: (٦٠ درجة)

- ١- تكلم عن معنى الريادة ثم وضع مفهومها وأهميتها في عالمي السفات الريادية المهمة
- ٢- ماهو دور الريادة في المجتمع عوضنا سفات الريادي الناتج
- ٣- ماهي سفات عناصر المزيج التسويقي

تعليمات الإجابة:

مع أطيب التمنيات بالاجاع والتوفيق



٢١

العام الجامعي ٢٠١٤/٢٠١٥ الفصل الدراسي الثاني

لجنة الامتحان: أ. م. د. رشيد يسيم محمد .. أ. د. الحسين الصيرفي .. أ. م. محمد نظمي شاذي الله

تعليمات الإجابة:

أجب على جميع الأسئلة

السؤال الأول: (٥٠ درجة)

- ١- ما الفرق بين السلع المرتبطة والسلع المتنافسة في عرض المحاصيل والسلع البديلة والمكملة في الطاب، عليا
- ٢- اذكر أنواع مرونة العرض مبينا ذلك بالرسم.

السؤال الثاني: (٥٠ درجة)

بين بالرسوم فقط:

- ١- السلع البديلة المنتجة - سلع الإقباخ التام - انتقال منطبي الطاب - أسعار السلع التموينية - متوسط التكاليف المتغيرة والاصنية والكلية

السؤال الثالث: (٧٠ درجة)

١- ما المقصود بالمصطلحات التالية:

دالة الإنتاج - دالة التكاليف - الميزة النسبية - الدالة التكوينية - أسواق احتكار القلة

٢- ماهي العلاقة بين ما حثي الناتج الكلي والتكاليف المتغيرة

السؤال الرابع: (٤٠ درجة)

إذا كانت دالة طلب القمح تمثلها المعادلة التالية

$$D_A = A^{-2.5} B^{1.5}$$

حيث A: سعر القمح، B: سعر الذرة

المطلوب: (أ) حساب المرونة السعرية للقمح


(ب) حساب مرونة التقاطع بين القمح والذرة

(ج) بين نوع العلاقة بين الطلب على السلعتين.

نهاية أسئلة الامتحان

صديق

المعلم



العام الجامعي ٢٠١٤/٢٠١٥ الفصل الدراسي الثاني

لجنة الممتحنين: أ.د. نشوى التطوي، أ.د. عون حيدر الكا، أ.د. دعاء حسيب

تعليمات الإجابة: اجب على جميع الأسئلة

السؤال الأول (٧٠ درجة) اجب في نقاط محددة مستعينا بالرسوم البيانية والمعادلات الرياضية كلما أمكن ذلك

١- الصناعات الزراعية

٢- الأشكال القاتونية لمنشآت الأعمال

٣- الأرقام القياسية

٤- نقطة التعادل

٥- عناصر الإنتاج الصناعي

السؤال الثاني (٧٠ درجة) إذا كان لديك قائمة الدخل التالية:

البيان	الإجمالي (جنيه)	الوحدة (جنيه)
المبيعات (٣٠٠٠٠٠ وحدة)	١٥٠٠٠٠	٥
التكاليف المتغيرة	٩٠٠٠٠	٣
حد المساهمة	٦٠٠٠٠	٢
التكاليف الثابتة	٥٠٠٠٠	١
صافي الدخل	١٠٠٠٠	١

المطلوب: ١- أكمل الجدول السابق؟ ٣- أوجد معامل حد الأمان؟ ٢- أوجد هيكل التكاليف؟

٤- اكتب قائمة دخل جديدة إذا زادت التكاليف الثابتة بمشورة الألف جنيه وانتقل باقي المتغيرات؟

السؤال الثالث (٧٠ درجة) إذا كان لديك البيانات التالية:

النشاط	النشاط السابق	المسار	المتقائل	الوقت بالأسبوع
أ	ب	٢-١	٢	٢.٥
ب	أ	١-٢	٤	٥
ج	د	٣-٢	١.٥	١
د	ج	٤-٣	٥.٦	٧
ل	د	٥-٣	٥	٦
و	د	٥-٤	٣	٤.٥

المطلوب: ١- ارسم شبكة الأعمال وحدد المسار الحرج

٢- أوجد احتمال انتهاء الأعمال المزروعة السابقة في ١٩ اسبوع

(نهاية أسئلة الامتحان) مع أطيب التمنيات بالنجاح والتوفيق



اسم وكود المقرر: ٢٤١٨  
 برامج البكالوريوس للمشاريع الزراعية  
 مدة الامتحان: ساعتان  
 تاريخ وموعد الامتحان: ٢٠١٦/٦/٨  
 الدرجة الكلية للامتحان: ٦٠ درجة



جامعة الإسكندرية  
 كلية الزراعة  
 قسم الاقتصاد وإدارة الأعمال الزراعية  
 بقرفة الرابعة

المعلم الجامعي: ١٤٠١/٢٠١٦ - أ. م. محمد النسي

لجنة الامتحان: ١- أ. م. نشوى الملقيني ٢- أ. م. الحسين الصوفي ٣- أ. م. محمد النسي  
 تعليمات الإجابة: يجب على جميع الأسئلة التالية:

السؤال الأول: (٧٠ درجة) الجدول التالي يوضح الإيرادات والتكاليف المتوقعة لأحد المشروعات الزراعية

السنة	إجمالي الإيرادات	إجمالي التكاليف	سعر الخصم			
			%١٠	%١٥	%٢٠	%٢٥
١	-	٥٠٠٠	٠.٩٠٩	٠.٨٧٠	٠.٨٢٣	٠.٨٠١
٢	٢٠٠٠	٤٠٠٠	٠.٨٢٦	٠.٧٥٦	٠.٦٩٤	٠.٦٤٥
٣	٥٥٠٠	١٥٠٠	٠.٧٥١	٠.٦٥٨	٠.٥٧٦	٠.٥١٢
٤	٤٥٠٠	١٥٠٠	٠.٦٨٣	٠.٥٧٢	٠.٤٨٢	٠.٤١٠
٥	٥٥٠٠	١٥٠٠	٠.٦٢١	٠.٤٩٧	٠.٤٠٢	٠.٣٢٨

المطلوب: إجراء التحليل المالي لهذا المشروع ، وعل تفيد هذا المشروع إذا كانت ان تكافة الفرصة بتبديل %١٠ ؟  
 السؤال الثاني: (٧٠ درجة)

وضح مع الرسوم مميزات النموذج السوقي - توالين المنتج في سوق الاحتكار الكامل في المدى الطويل -  
 مراحل دالة الإنتاج - الناتج المعدل للربح ، الناتج الأمثل - نقطة الإغلاق.

(ب) إذا كانت لدينا البيانات التالية: ١- سحب الميزان حسن من حسابته الجارية بالبنك مبلغ وقدره ٢٧٠٠٠ جنيه أودعهم بمناوبك بزرعتك في يوم ٢٠١٤/١/١.

٢- اشترى أملاك قيمتها ٧٠٠٠ جنيه على الحساب من الشركة المتقدمة للأحلاف في يوم ٢٠١٤/١/٢.

٣- سحج أملاك قيمتها ٤٥٠٠ جنيه نقداً في يوم ٢٠١٤/١/٣.

٤- حدد المهندس / حسن مبلغ وقدره ٢٥٠٠ جنيه للشركة المتقدمة للأحلاف في يوم ٢٠١٤/١/٤.

٥- استسجر عمالة قيمتها ١٥٠٠ جنيه في يوم ٢٠١٤/١/٥.

المطلوب: تقييد هذه القيود في دفتر زمنية ونزحها إلى دفتر الأستاذ وعمل الميزانية بالأرصدة والسجاميع.

السؤال الثالث: تناول باختصار كل من: (٧٠ درجة)

١- تعريف المشروع ومدى نأته.  
 ٢- شبكة الأعمال والجدول الزمني لتنفيذ المشروع.

٣- قواعد واسس مدى إمكانية قبول المشروع من الناحية التمويلية.

تجاهلة أسئلة الامتحان. مع أضيف للتمثيلات بالتواريخ والتفريق.

القسم: الاقتصاد وإدارة الأعمال الزراعية

المستوى: الرابعة


اسم و كود المقرر: ٣٤١١ - السياسة والتنمية الزراعية

مدة الامتحان: ساعتين

تاريخ و ميعاد الامتحان: ٢٠١٦/٦/٨ من ١٠-١٢

الدرجة الكلية للامتحان: ١٨٠

جامعة الإسكندرية  
ALEXANDRIA  
UNIVERSITY



كلية الزراعة

العام الجامعي ٢٠١٦/٢٠١٥ الفصل الدراسي الثاني

لجنة الممتحنين: ١- أ.د. أوليفيا السيد صالح ٢- أ.د. رفعت عبد الوهاب لقوشة ٣- أ.د. نجوى عبد المنعم مصطفى

تعليمات الإجابة:

أجب على جميع الأسئلة التالية:

السؤال الأول: (٦٠ درجة)

١- عرف المصطلحات الآتية:

الإستراتيجية، السياسة، التخطيط، السياسة الزراعية وأهدافها، التنمية الزراعية المتواصلة وأهدافها والعوامل المؤثرة عليها.

٢- مؤشرات ومعايير تحليل وتقييم السياسة الزراعية.

السؤال الثاني: (٦٠ درجة)

١- ماهي أهداف برامج الإصلاح الزراعي في مصر.

٢- ماهي العوامل التي اتخذها ستجر لحساب النمو الاقتصادي. أذكر هذه العوامل ثم بين معادلة حسابها.

٣- بين بالرسم فقط المكاسب والتكاليف الاجتماعية لبرامج الدعم الحكومي مع بيان حساب صافي الخسارة

الاجتماعية لكل من جانب الإنتاج وجانب الاستهلاك.

الامتحان من صفتين

أنظر خلفه ←



**السؤال الثالث: (٦٠ درجة)**

**أجب على مايلي:**

**أولاً - أكمل العبارات التالية وانقل الإجابة فقط إلى كراسة الإجابة بترقيمها وبالتتابع:**

- ١- قد يكون هناك نمو في الدخل القومي ولكن هذا النمو قد لا يوصف بأنه تنمية لأن .....
- ٢- الهدف من التنمية هو الخروج من التنمية لأن .....
- ٣- إذا كان من الممكن تعريف السياسة بأنها فن إدارة ....., فإنه - في هذه الحالة - يمكن القول بأن السياسة هي استثمار للزمن.
- ٤- مصطلح GESTION ينطبق على تدخل الدولة في إدارة سوق السلع الزراعية لأن .....
- ٥- تستهدف سياسات التنمية الزراعية خفض معدل ارتفاع الأسعار الزراعية مقارنة بمعدل التضخم على المستوى القومي لأن .....
- ٦- السعر التأشير للسلع الزراعية في إطار السياسات الزراعية ليس هو أدنى سعر لشراء هذه السلع لأن .....
- ٧- التنمية الزراعية الأفقية تقود إلى زيادة أسعار السلع الزراعية لأن ....., وعلى العكس، فإن التنمية الزراعية الرأسية تقود إلى خفض أسعار هذه السلع لأن .....
- ٨- اهتمت النظريات المحدثة للتنمية الزراعية بزيادة إنتاجية العمل الزراعي، ويرى LUCAS أن زيادة هذه الإنتاجية هي دالة لـ ....., بينما يرى ROMER انها دالة لـ ....., في حين يرى BARRO انها دالة لـ .....
- ٩- اهتمت النظريات المحدثة للتنمية الزراعية بمكافحة الفقر وبرزت أفكار طرحها LOPP ، HUGON ، BASLE ، TRABOLD ، ومن وجهة نظرك فإن أفضل هذه الأفكار هي الأفكار التي طرحها ....., لأن .....
- ١٠- في الثورة الخضراء التي عرفتها التنمية الزراعية، كان معدل الإحلال الحدي بين العمل ورأس المال يساوي ....., لأن .....
- ١١- في التعريف المحدث للتنمية الزراعية، فإن التنمية الأفقية تبدو مشروطة بـ .....
- ١٢- من بين المفاهيم الأساسية للتنمية المستدامة أن الموارد الطبيعية هي ....., وأنها لا يمكن ....., من حيث الكيف ببدائل .....
- ١٣- وجود قاعدة علمية قوية هي شرط أساسي للتنمية ....., لأن هذه القاعدة قادرة على تحقيق شرط ....., و الذي يحول دون إنكار الحقائق.
- ١٤- إذا أردنا تحقيق تنمية زراعية ناجحة، فإن معدل نمو الناتج الزراعي الحقيقي لا ينبغي أن يقل عن ....., لأن .....
- ١٥- التنمية المستدامة تعني أنها تنمية دائمة و .....

**ثانياً - ضع علامة (✓) أو علامة (x) أمام العبارات التالية .. مع التعليل:**

- ١- تقدير MOUNIER لضرورة زيادة إنتاجية العمل الزراعي بحوالي ٢.٧% كأحد شروط نجاح التنمية الزراعية.. هو تقدير صحيح.
- ٢- في تجربة للتنمية الزراعية في دولة ما .. كان معدل التقدم التكنولوجي المدمج في رأس المال يعادل ٢% ومعدل التقدم التكنولوجي غير المدمج في رأس المال = -٣%، وبالتالي فهي تجربة ناجحة.
- ٣- إذا كانت مساحة الأراضي الزراعية القديمة في إحدى الدول تعادل ١٠ مليون هكتار، وخلال عدة سنوات تم اقتطاع مليون هكتار من هذه الأراضي، بينما تم - وخلال هذه السنوات - إضافة أراضي زراعية جديدة بحوالي ٠.٩ مليون هكتار، فإن مضاعف التنمية الأفقية - في هذه الحالة - يعادل (٤.٥).
- ٤- مفهوم التنمية المستدامة يبدو مرتبطاً بأحد تعاريف التنمية باعتبارها الكشف عن الإمكان المدخر في المادة.

**(نهاية أسئلة الاختبار)**

مع أطيب الأمنيات،،،،،

القسم: الاقتصاد وإدارة الأعمال الزراعية

المستوى: الرابع


اسم و كود المقرر: ٠٣٤١٤ التعاون الزراعي

مدة الامتحان: ساعتان

تاريخ و ميعاد الامتحان: الأربعاء ١٥/٦/٢٠١٦ م (١٠-١٢)

الدرجة الكلية للامتحان: ١٨٠ درجة

جامعة الإسكندرية  
ALEXANDRIA  
UNIVERSITY



كلية الزراعة

العام الجامعي ٢٠١٥/٢٠١٦، الفصل الدراسي الثاني

د/ دعاء حسين إبراهيم

أ.د/ سعد زغلول سليمان

لجنة المتحنيين: أ.د/ عون خير الله عون

تعليمات الإجابة: أجب عن جميع الأسئلة التالية

(٤٥ درجة)

السؤال الأول:

عرف التعاون مبيناً أهدافه والفرق بين المؤسسات التعاونية والمؤسسات الرأسمالية.

(٤٥ درجة)

السؤال الثاني: وضع مايلي:

١- مبادئ الحلف التعاوني الدولي للتعاون الإستهلاكي.

٢- مبادئ باكن وشارس للتعاون التسويقي.

٣- القواعد المنظمة للمسئولية المالية للأعضاء.

(٤٥ درجة)

السؤال الثالث:

وضح الأنواع المختلفة للجمعيات التعاونية.

(٤٥ درجة)

السؤال الرابع:

١- وضح أوجه المقارنة بين كل من الجمعية العمومية ومجلس إدارة الجمعيات التعاونية، موضحاً تعريف

واختصاصات كل منهما.

٢- " يختلف حجم الإحتياجات المالية للجمعيات التعاونية باختلاف عدة عوامل " في ضوء تلك العبارة وضح

تلك العوامل، وأذكر في نقاط محددة الوسائل المباشرة وغير المباشرة للتمويل التعاوني.

(نهاية أسئلة الامتحان)

مع أطيب الأمنيات بالتوفيق والنجاح.....

القسم: الاقتصاد وإدارة الأعمال الزراعية

المستوى: تكميلي دراسات عليا


اسم و كود المقرر: ٠٣٤١٥ إدارة الأعمال الزراعية

مدة الامتحان: ساعتان

تاريخ و ميعاد الامتحان: الأربعاء ٢٠١٦/٩/٨ م (١٠-١٢)

الدرجة الكلية للامتحان: ٩٨٠ درجة

جامعة الإسكندرية  
ALEXANDRIA  
UNIVERSITY



كلية الزراعة

العام الجامعي ٢٠١٥/٢٠١٦، الفصل الدراسي الثاني

لجنة المتحنيين: أ.د/ محمد محمد الماحي أ.د/ عبد اللطيف عطية القاق أ.د/ عصام عبد اللطيف أبو الوفا

تعليمات الإجابة: أجب عن جميع الأسئلة التالية

السؤال الأول: عرف كل من: (٤٥ درجة)

علم إدارة الأعمال الزراعية، منحني لورنز، العرض الطبيعي والاقتصادي للمورد، الكفاءة، الملكية والحيازة، المعجل، الثمن الكسبي.

السؤال الثاني: أذكر فقط مايلي: (٤٥ درجة)

- ١- التعديلات التشريعية الأخيرة لتعديل العلاقة بين المالك والمستأجر في الأراضي الزراعية، وكيف يتم التعويض.
- ٢- تقدير قيمة الأراضي الصحراوية المستصلحة.

السؤال الثالث: تناول باختصار مايلي: (٤٥ درجة)

- ١- دور الإدارة في إدارة المورد المائي في الفترة الحالية والمستقبلية، وإمكانيات التوسع الحالي والمستقبلي في المشروعات.
- ٢- تطور إدارة ملكية الأراضي في مختلف العصور.
- ٣- الوسائل التي تتبعها الإدارة لزيادة العرض الاقتصادي للموارد الأرضية.

السؤال الرابع: وضح باختصار مايلي: (٤٥ درجة)

- ١- كيفية إدارة مورد الأرض، وطرق توجيه الموارد.
- ٢- حالات مرونة عرض المورد.

(نهاية أسئلة الامتحان)

مع أطيب الأمنيات بالتوفيق والنجاح.....

القسم: الاقتصاد وإدارة الأعمال الزراعية

المستوى: دراسات عليا


اسم و كود المقرر: ٠٣٤٠٣ - الإحصاء الاقتصادي

مدة الامتحان: ساعتين

تاريخ و ميعاد الامتحان: ٢٠١٦/٥/٢٨

الدرجة الكلية للامتحان: ١٠٠

جامعة الإسكندرية  
ALEXANDRIA  
UNIVERSITY



كلية الزراعة

العام الجامعي ٢٠١٦/٢٠١٦ الفصل الدراسي الثاني

لجنة الممتحنين: ١- أ.د. علي يوسف خليفة ٢- أ.د. أوليفيا صالح ٣- د. ياسمين صلاح

تعليمات الإجابة:

أجب على جميع الأسئلة الآتية

السؤال الأول: (٣٠ درجة)

١- أوجد متوسط الانحرافات المطلقة عن وسيطها للبيانات التالية:

٢.٤ ، ١.٩ ، ٣.٨ ، ٤.١ ، ٤.٤ ، ٢.١

٢- الجدول التالي يوضح التوزيع التكراري لخمسين طالب حسب أوزانهم

فئات الوزن	٥٠-	٥٥-	٦٠-	٦٥-	٧٠-	٧٥-	٨٠- أقل من ٨٥
عدد الطلبة	٣	٥	١١	١٦	٩	٤	٢

بين نوع التوزيع ودرجته.

السؤال الثاني: (٢٥ درجة)

في إحدى السباقات قطعت المسافات التالية في الساعة

فئة المسافة	٢-	٤-	٦-	٨-	١٠-	١٢-	١٤- أقل من ١٦
عدد المتسابقين	٩	١٤	٢٢	٣٠	١٠	٨	٧

أوجد متوسط السرعة المسجلة في الساعة

السؤال الثالث: (١٥ درجة)

المدن أ، ب، ج متساوية في بعدها عن بعض سافر راكب بدراجة من أ إلى ب بسرعة ٣٠ كم في الساعة ومن ب إلى ج بسرعة ٤٠ كم في الساعة ومن ج إلى أ بسرعة ٥٠ كم في الساعة أوجد متوسط سرعته في الرحلة كلها.

السؤال الرابع: (١٠ درجة)

بافتراض أن  $1.02 = k$  وأن هناك ٩ فئات كلها متساوية لطول الفئة الأولى هي ١٠ إلى أقل من ٢٠ وكان التكرار المتجمع الصاعد للفئات الخامسة والسادسة والسابعة والثامنة هي بالترتيب كالاتي ٩٩ ، ٩٠ ، ٧٨ ، ٤٥ أحسب وسيط هذا التوزيع

(نهاية أسئلة الاختبار)

مع أطيب الأمنيات.....

الرسالة

القسم: الاقتصاد وإدارة الأعمال الزراعية

المستوى: الرابع

اسم و كود المقرر: ٠٣٤٠٤ اقتصاديات استخدام الموارد الأرضية  
والمالية

مدة الامتحان: ساعتان

تاريخ و ميعاد الامتحان: الأحد ١٢/٦/٢٠١٦ م (١١-١٢)

الدرجة الكلية للامتحان: ١٨٠ درجة

كلية الزراعة



العام الجامعي ٢٠١٥/٢٠١٦، الفصل الدراسي الثاني

لجنة المتحنيين: أ.د/ محمد محمد الماحي أ.د/ رفعت عبد الوهاب لقوشة د/ ياسمين صلاح عبد الرازق

تعليمات الإجابة:

- أسئلة الإمتحان في صفتين (على جزئين)
- أجب عن جميع الأسئلة التالية

الجزء الأول: (١٣٥ درجة)

السؤال الأول: (٩٠ درجة)

أ- عرف مايلي: المكافئ الرقعي، السحب الآمن، الحجم الأمثل للسكان.  
ب- وضح مايلي:

- ١- وسائل زيادة العرض الاقتصادي للمورد الأرضي.
- ٢- أنواع الفقد في الموارد الأرضية.
- ٣- أسباب الفقد في الإنتاجية.
- ٤- أنواع تصنيفات الأراضي الزراعية.
- ٥- المنشآت والسدود على نهر النيل لزيادة الإيراد المائي للنهر.
- ٦- مشروعات أعالي النيل لزيادة إيراد نهر النيل.

السؤال الثاني: تناول بالشرح مايلي: (٤٥ درجة)

- ١- أهم مشروعات تحسين الأراضي.
- ٢- مقاييس كفاءة استخدام الموارد الأرضية والمائية.
- ٣- أنواع المخاطرة واللايقين في الزراعة.
- ٤- علاقة التكنولوجيا والحجم الأمثل للسكان.

(نهاية أسئلة الجزء الأول)

القسم: الاقتصاد وإدارة الأعمال الزراعية

المستوى: الرابع

اسم و كود المقرر: ٠٣٤٠٤ اقتصاديات استخدام الموارد الأرضية  
والمائية


مدة الامتحان: ساعتان

تاريخ و ميعاد الامتحان: الأحد ١٢/٦/٢٠١٦ م (١٠-١٢)

الدرجة الكلية للامتحان: ١٨٠ درجة

كلية الزراعة

جامعة الإسكندرية  
ALEXANDRIA  
UNIVERSITY



العام الجامعي ٢٠١٥/٢٠١٦، الفصل الدراسي الثاني

لجنة المتحنيين: أ.د/ محمد محمد الماحي أ.د/ رفعت عبد الوهاب لقوثة د/ ياسمين صلاح عبد الرازق

(٤٥ درجة)

الجزء الثاني:

ضع علامة (✓) أو علامة (x) أمام العبارتين التاليتين مع التعليل:

١- هناك مخاطر عديدة ترتبط بتسعير المياه وفقاً لعلاقات السوق.

٢- في حال وجود ندرة نسبية من المياه في إحدى الدول، فإن زراعة محاصيل تحتاج إلى كميات كبيرة من المياه للري، هي حالة يمكن وصفها بالمرض الهولندي والذي يقود إلى تداعيات اقتصادية سلبية.

(نهاية أسئلة الجزء الثاني)

مع أطيب التمنيات بالنجاح والتوفيق،،،،،

القسم: الاقتصاد وإدارة الأعمال الزراعية

المستوى: رابعة محاصيل

اسم و كود المقرر: ٠٣٤٢٠ - اقتصاديات المحاصيل الحقلية

مدة الامتحان: ساعتين

تاريخ و ميعاد الامتحان: ٢٠١٦/٦/١٢ من ١٠ - ١٢

الدرجة الكلية للامتحان: ١٨٠ درجة



كلية الزراعة

العام الجامعي ٢٠١٦/٢٠١٥ الفصل الدراسي الثاني

لجنة الممتحنين: ١- أ.د. علي يوسف خليفة ٢- أ.د. عبد اللطيف عطية الفاق ٣- د. دعاء حسين إبراهيم

تعليمات الإجابة:

الإجابة على جميع الأسئلة

السؤال الأول: (٦٠ درجة)

(١) قسم الاقتصاديون عناصر الإنتاج إلى الربعة أقسام المعروفة "الأرض والعمل ورأس المال والإدارة" أشرح بإيجاز مفهوم كل من هذه العناصر وخصائصها" (٣٠ درجة)

(٢) تكلم عن أسباب تدهور محصول القطن في مصر مبينا أهمية هذا المحصول الاقتصادية (٣٠ درجة)

السؤال الثاني: (٦٠ درجة)

تكلم بإيجاز عن علاقة تكاليف النقل بكل من:

(١) المواقع المختارة لمنشآت التجهيز أو التصنيع (٢٠ درجة)

(٢) النمط العام لاستغلال الأراضي الزراعية (٢٠ درجة)

(٣) نوعية السلع المعروضة في السواق (٢٠ درجة)

السؤال الثالث: (٦٠ درجة)

(١) اذكر أهم العوامل اللازمة لسد الفجوة الغذائية من المحاصيل البقولية (٢٠ درجة)

(٢) قارن بين كل من المحاصيل الزيتية الآتية من حيث أهميتها النسبية: الفول السوداني، عباد الشمس، فول الصويا: (٢٠ درجة)

السمسم (٢٠ درجة)

(٣) تكلم بإيجاز عن حجم الفجوة الغذائية من محصول القمح (٢٠ درجة)

(نهاية أسئلة الاختبار)

مع أطيب الأمنيات.....

القسم: الاقتصاد وإدارة الأعمال الزراعية

المستوى: الرابع


اسم و كود المقرر: ٤١٨ دراسة الجدوى للمشروعات الزراعية

مدة الامتحان: ساعتين

تاريخ و ميعاد الامتحان: ٢٠١٦/٦/٤ من ١٠-١٢

الدرجة الكلية للامتحان: ٦٠ درجة

جامعة الإسكندرية  
ALEXANDRIA  
UNIVERSITY



كلية الزراعة

العلم الجامعي ٢٠١٥/٢٠١٦ الفصل الدراسي الثاني.

٣- د. محمد علي

٢- د. محمد الماحي

١- د. نشوى التطاوى

تعليمات الإجابة: اجب عن جميع الاسئلة التالية:

السؤال الأول: (٢٠ درجة) الجدول التالي يوضح الإيرادات والتكاليف المتوقعة لأحد المشروعات الزراعية

السنة	إجمالي الإيرادات	إجمالي التكاليف	سعر الخصم			
			%١٠	%١٥	%٢٠	%٢٥
١	-	٥٠٠٠	٠.٩٠٩	٠.٨٧٠	٠.٨٣٣	٠.٨٠٠
٢	-	٢٠٠٠	٠.٨٣٦	٠.٧٥٦	٠.٦٩٤	٠.٦٤٠
٣	٥٠٠٠	١٠٠٠	٠.٧٥١	٠.٦٥٨	٠.٥٧٩	٠.٥١٢
٤	٥٠٠٠	١٠٠٠	٠.٦٨٣	٠.٥٧٢	٠.٤٨٢	٠.٤١٠
٥	٥٠٠٠	١٠٠٠	٠.٦٢١	٠.٤٩٢	٠.٤٠٢	٠.٣٢٨

المطلوب: إجراء التحليل المالي لهذا المشروع ، مع تذكر أنطباعك عن هذا المشروع إذا علمت أن تكلفة الفرصة

البديلة ١٠%.

السؤال الثاني: (٢٠ درجة)

١- عرف كل من: (٥ درجات) ( المشروع - العمر الاقتصادي - الاستفاد - القيمة الحالية - معامل الخصم ).

٢- تناول بالشرح كل من: (١٥ درجة) أ - شروط الافراض . (٥ درجات)

ب- طرق حساب إهلاك المباني والآلات والمعدات. (٥ درجات) ج- طرق تسديد القروض. (٥ درجات)

الامتحان من صفحتين

أنظر خلفه ←




السؤال الثالث: (٢٠ درجة) أذكر في نقاط محددة:

- ١- اسباب إهمال كثير من القائمين على إعداد دراسة الجدوى للمشروعات الجدوى التسويقية للمشروع. (٥ درجات)
- ٢- الأهداف التسويقية للمشروع. (٥ درجات)
- ٣- أهمية الدراسة الفنية والنكواتوجية للمشروع. (٥ درجات)
- ٤- عناصر ومكونات إعداد الدراسة الفنية للمشروع. (٥ درجات)

---

(نهاية أسئلة الاختبار)

مع أطيب الأمنيات



Total Points 120

Saturday, June 4<sup>th</sup>, 2016 from 10:00 to 12:00

Academic Year: 2015/2016

Academic Semester: 2<sup>nd</sup>Examiner's Committee: *Kamal Sultan*, Ahmed Abulyazid, and Mohamed AlyAnswer the following questions:

1.A. A firm borrows \$100,000, and the loan is to be repaid in five equal payments at the end of each of the next five years. The lender charges at 10% interest rate on the loan balance. Find the PMT per year?

1.B. For the estimates below, calculate the following:

- Breakeven quantity Y.

- Profit (loss) at sales levels that are 10% above and 10% below breakeven,  $r = \$40$  per unit;  $v = 25$  per unit;  $FC = \$4,000,000$

2. Project X and Y expected net cash flows are as follows:

Year	Project X	Project Y
0	(10,000)	(10,000)
1	6500	3500
2	3000	3500
3	3000	3500
4	1000	3500

A. Calculate: Project's payback period; Net Present Value (NPV); IRR; and MIRR?

B. Which project could be accepted, if:

- They are independent.

- They are mutually exclusive.

The following data apply to a company X (in millions of dollars):

- Operating costs	2616.2
- Depreciation	100
- Interest plus preferred dividends	92
- Taxes	78.3
- Current assets	1000
- Fixed assets	1000
- Sales	3000
- Debt	104

Find:

- Profit margin.
- Total assets turnover.
- Return on assets.
- Equity multiplier.
- Return on equity.

4. Two mutually exclusive alternative public-works projects are currently under consideration. Their respective costs, benefits, and disbenefits, and the useful life are included in the table that follows:

The MARR is 12% and 15%. Which, if any of these projects should be selected?

	Project A	Project B
Capital investment	8500	12000
Annual O&M	750	700
Annual benefit	2150	3500
Annual disbenefits	650	800
Useful life of project in years	35	25

---

(The end of exam)

Best wishes

Final Exam, First Semester (2014/2015)

Examiners: Prof. dr. Rafek Mohamed Prof. dr. Sherein sherif Prof. dr. Aou Kheralla Aou

1- (A): Define or explain the following concepts: (20 degree)

Accounting, Assets, Balance Sheet, Basic accounting equation, Drawings, Expenses, Liabilities, Transactions.

(B): From the following General Journal's page Make: (40 degree)

# The General Ledger, # The Trial balance.

Date	Title	Debit	Credit	No. Account
1/1/2014	Purchases	2000		1
	Cash		2000	2
2/1/2014	Cash	5000		2
	Sales		5000	3
3/1/2014	Sales returns	2000		4
	The Trader		2000	5
5/1/2014	Cash	500		2
	Purchases returns		500	6
15/1/2014	Wages	1000		7
	Cash		1000	2
25/1/2014	Interest	500		8
	Cash		500	2
29/1/2014	Remi	300		9
	Cash		300	2
30/1/2014	Salaries	1000		10
	Cash		1000	2
		12000	12000	

2- From the following information make: (60 degree)

# Trade account, The Profit and loose account, and The balance sheet.

Beginning Inventory 3000, Purchases 17000, Purchases returns 2000, Purchases transport expenses 3000, Ending Inventory 8000, Sales 25000, Sales returns 5000, Management expenses 10000, Loan interest 300, Salaries 5000, Insurance expenses 2000, Bad debts 1000, Notes receivable revenue 20000, Capital 90000, Drawing 5000, Ground 20000, Machins 30000, Building 30000, Note receivable 2000, Cash in bank 5000, Cash 10000, Notes payable 5000, Accounts payable 3000, Interest payable 2000, Salaries payable 1300.

With my best wishes



Second Semester 2013/2014

Exam. Committee : Prof. Dr. N. El-Tatawy, Prof D. H. Elselly , Prof. Dr. M. El Mahy

Answer The Following Questions:

First Question: Discuss and explain the following: (90 Degree)

- Break-Even point.
- project evaluation.
- The purpose of project evaluation.
- Costs & Timing
- Social analysis.
- Environmental analysis.

Second Question: (90 degree)

An investor has presented the following data pertaining to an agricultural project to a bank to finance it, assuming that capital opportunity cost is 10%.

Y	Total Revenue	Total Cost	Discount Rate	
			10%	15%
1		5500	0.909	0.870
2		2200	0.826	0.756
3	4500	2200	0.751	0.658
4	4500	2200	0.683	0.572
5	4500	2200	0.621	0.497
6	4500	2200	0.564	0.432
7	4500	2200	0.513	0.376

Based on what you have studied, would you recommended to the bank to carry out this project ?Sat why or why not?



العام الجامعي ٢٠١١/٢٠١٠ الفصل الدراسي الثاني

لجنة الامتحان: أساتذة عبد الطيف، عطية القاني ٢، أحمد منور، طه الحناوي ٣، أشرف أشموس التطاوي ٤.

تعليمات الإجابة:

أجب على جميع الأسئلة

السؤال الأول: (٤٠ درجة)

١- تعتبر الزراعة أقرب الصناعات لأن تكون تنافسية بالمعنى الاقتصادي " اشرح ذلك مبينا

شروط المنافسة القائمة

-- أهم ما يترتب على هذه الخاصية من نتائج -- وضح إجابتك بالرسوم البيانية كلما أمكن ذلك.

٢- تكلم بإيجاز عن أهم المشاكل التي يعاني منها قطاع الزراعة في مصر، ثم وضح رأيك في التغلب على هذه

المشكلات.

السؤال الثاني: (٤٠ درجة)

وضح مع الرسم خمسة نقاط مما يلي:

١- التنمية الاقتصادية -- والتنمية المتوازنة

٢- علم التسويق الزراعي -- السوق

٣- الموارد الأرضية الاقتصادية -- الموارد الأرضية الفيزيائية.

٤- عمالة كاملة -- قوة بشرية -- لقوة بشرية

٥- الأسواق الكاملة -- الأسواق المنظمة -- الأسواق المفتوحة

٦- النمو السكاني -- دالة النمو السكاني

٧- منحنى عرض العمل الفردي -- منحنى عرض العمل السوقي.

٨- المشكلات.

ضع علامة ( × ) أو ( √ ) أمام العبارات التالية بعد تامل أرقام العبارات في كراسة الإجابة

- ١- تقوم التجارة الخارجية بربح أو خسارة تضمينهم حدود سياسية واسعة ويخضعون لقانون واحد.
- ٢- يعتبر اختلاف الأسواق في الدول المختلفة من العوامل التي تؤثر تأثيراً واضحاً على طبيعة التبادل التجاري.
- ٣- تتقلد عناصر بسهولة نسبية داخل حدود الدولة الواحدة أكثر من انتقالها بين الدول المختلفة.
- ٤- تقوم التجارة الخارجية بين دول أو دولة واحدة بتكديها نظام اقتصادي واحد.
- ٥- يرى آدم سميث أن العمل هو المصدر للقوة أي أن قيمة أي سلعة تتحدد على العمل المنجز فيها.
- ٦- افترض ريكاردو في نظريته أن التجارة الخارجية تتم بين أربع دول على الأقل.
- ٧- يرى مكاش أن نفقات إنتاج السلع تختلف باختلاف الدول.
- ٨- وفقاً لنظرية أولين فإنه يوجد نسبة عوامل إنتاجية تؤثر في التجارة الخارجية.
- ٩- يوجد فائض في ميزان المدفوعات عند تزايد الإيرادات في المدة ذاتها.
- ١٠- يوجد عجز في ميزان المدفوعات عند تزايد المدفوعات على الإيرادات.

من نظرية التمثيل والذبح والانتقالي